



(D) None of the above

5. ലൈസൻസുള്ളയാൾക്ക് \_\_\_\_\_ അധികാരപ്പെടുത്തിയ സ്ഥാപനത്തിൽ നിന്ന് മാത്രമേ ഫ്രാങ്കിംഗ് മെഷീൻ വാങ്ങാനാകൂ.  
 अनुसंधारी को \_\_\_\_\_ द्वारा प्राधिकृत फर्म से ही फ्रैंकिंग मशीन प्राप्त करनी चाहिए  
 The franking Machine must be obtained by the licensee only from the firm authorized by the \_\_\_\_\_

(A) Postmaster General	(B) Chief Postmaster General
(C) Director General	(D) Divisional Head

6. പോസ്റ്റൽ ഓർഡറുകൾ നഷ്ടപ്പെട്ടു, ഇല്ലാതായി അല്ലെങ്കിൽ നശിച്ചു എന്ന പരാതി നൽകുമ്പോൾ എന്തൊക്കെ രേഖകളും വിവരങ്ങളും ആണ് അതോടൊപ്പം നൽകേണ്ടത്?  
 पोस्टल ऑर्डर के खोने, निफल या नष्ट होने की शिकायत के मामले में कौन से दस्तावेज और सूचना साथ होना चाहिए?  
 What documents and information should be accompanied in the case of complaints of Loss, Misarrriage or destruction of Postal Orders?  
 (i) Counter foil or failing this Serial No. of the order  
 (ii) Office from which purchased  
 (iii) Date of purchase  
 (iv) Full address of the remitter

(A) (i), (ii), (iii) and (iv) are correct	(B) (i), (ii) and (iii) are correct
(C) (i), (ii) and (iv) are correct	(D) (ii), (iii) and (iv) are correct

7. തപാൽ കൂലി നൽകുന്നതിൽ താഴെപ്പറയുന്നവ അംഗീകരിക്കില്ല  
 डाक शुल्क के भुगतान में निम्नलिखित को मान्यता नहीं दी जाएगी:  
 Following shall not be recognized in payment of postage:  
 (i) Defaced with rubber stamp  
 (ii) Defaced with pen  
 (iii) Separated from embossed envelope, postcards or wrappers  
 (iv) Postage stamps otherwise rendered imperfect

(A) (i), (ii), (iii) and (iv) are correct	(B) (i), (ii) and (iii) are correct
(C) (i), (ii) and (iv) are correct	(D) (ii), (iii) and (iv) are correct

8. തപാൽ സ്റ്റാമ്പുകളുടെ വിൽപന നിരോധനം ഇവയ്ക്ക് ബാധകമല്ല  
 निम्नलिखित पर डाक टिकटों की विक्री के लिए प्रतिबंध लागू नहीं होगा  
 The prohibition for sale of postage stamps will not apply to  
 (i) Philatelic Agency  
 (ii) Hospital, Sanatorium or other similar institutions  
 (iii) Institute for recreation of Defence Services Personnel  
 (iv) Nehru Philatelic Club

(A) (i), (ii), (iii) and (iv) are correct	(B) (i), (ii) and (iii) are correct
(C) (i), (ii) and (iv) are correct	(D) (ii), (iii) and (iv) are correct

9. രജിസ്റ്റേർഡ് ന്യൂസ്‌പേപ്പറിന്റെ ഒരേ ലക്കത്തിന്റെ ഒന്നിലധികം പകർപ്പുകൾ അടങ്ങിയ പാക്കറ്റുകൾ പോസ്റ്റ് ചെയ്യുന്നതിനുള്ള വ്യവസ്ഥകൾ:-  
 पंजीकृत समाचार पत्र के एक ही अंक की एक से अधिक प्रतियाँ वाले पैकेटों की पोस्टिंग की शर्तें:  
 Conditions of the posting of packets containing more than one copy of the same issue of a registered newspaper:  
 (i) Each packet shall contain only copies of the same registered newspaper and of the same date  
 (ii) The packets shall be delivered at the addressee's residence  
 (iii) The packets shall be addressed to the Local Agent of the Registered Newspaper at the place of destination  
 (iv) Such packets shall be posted in the same post office and on the same fixed days as in the case of single copies of that registered newspaper

(A) (i), (ii), (iii) and (iv) are correct	(B) (i), (ii) and (iv) are correct
(C) (i), (iii) and (iv) are correct	(D) (ii), (iii) and (iv) are correct

10. രജിസ്റ്റേർഡ് തപാലുരുപ്പടി വിലാസക്കാരൻ കൈപ്പറ്റിയെന്നുള്ള രസീതിന്റെ സാക്ഷ്യപ്പെടുത്തിയ പകർപ്പ് ലഭിക്കുന്നതിനുള്ള സമയപരിധി  
 पंजीकृत वस्तु की प्रेषिती प्राप्ति रसीद की अनुप्रमाणित प्रति प्राप्त करने की समयावधि  
 Time period for obtaining attested copy of addressee's receipt of a registered article

(A) 6 months	(B) 3 months
(C) 9 months	(D) 12 months

11. കാലാകാലങ്ങളിൽ ഭേദഗതി വരുത്തിയ 1968 ലെ കയറ്റുമതി (നിയന്ത്രണ) ഉത്തരവിലെ ഷെഡ്യൂൾ I-ൽ ഉൾപ്പെടുത്തിയിട്ടുള്ള വസ്തുക്കൾ, ഇവയൊഴികെ ഇസീടി അധികാരികളുടെ ലൈസൻസ് ഇല്ലാതെ പാഴ്സൽ പോസ്റ്റ് വഴി കയറ്റുമതി ചെയ്യാൻ കഴിയില്ല.  
 समय-समय पर संशोधित निर्यात नियंत्रण (आदेश 1968 की अनुसूची I में शामिल वस्तुओं को ईसीटी प्राधिकारियों से अनुमति के बिना पार्सल पोस्ट द्वारा निर्यात नहीं किया जा सकता है, सिवाय इसके कि:  
 Articles included in Schedule I to Exports (Control) Order 1968, as amended from time to time, cannot be exported by parcel post without a licence from the ECT authorities except for  
 (i) Commercial samples  
 (ii) Gifts of certain items  
 (iii) Uncurrent silver coins  
 (iv) Gold

(A) (i), (ii), (iii) and (iv) are correct	(B) (i), (ii) and (iii) are correct
(C) (i), (iii) and (iv) are correct	(D) (ii), (iii) and (iv) are correct

12. റീഡയറക്ട് ചെയ്യപ്പെട്ട എല്ലാ കത്തിടപാടുകളും താഴെപ്പറയുന്ന രീതിയിൽ പരിഗണിക്കും  
 सभी पुन:प्रेषित पत्राचार का इस प्रकार व्यवहार किया जाता है:  
 All redirected correspondence is treated in the following manner:  
 (i) Surface mail items received from any country for delivery in India may be redirected to any place within India  
 (ii) Surface mail items received for delivery in India from any country not applying reduced charges for India may be redirected to another country by the surface mail



(A)	International Speed Post	(B)	International Parcel Post
(C)	International Tracked Packet	(D)	None of these

22. ഐടി ആധുനികവൽക്കരണ പദ്ധതിയിൽ കോർ ബാങ്കിംഗ് സൊല്യൂഷൻ (സിബിഎസ്) എന്ത് സാങ്കേതികവിദ്യയാണ് ഉപയോഗിച്ചത്?  
आईटी आधुनिकीकरण परियोजना में कोर बैंकिंग सॉल्यूशन (सीबीएस) के लिए किस तकनीक का उपयोग किया गया था?  
What technology was used for the core banking solution (CBS) in the IT Modernization Project?

- (A) Oracle (B) Finacle (C) SAP (D) IBM

23. ഐടി ആധുനികവൽക്കരണ പദ്ധതിക്കായി എടിഎം സൊല്യൂഷൻ ഏത് വെൻഡറാണ് നൽകിയത്?  
आईटी आधुनिकीकरण परियोजना के लिए एटीएम सॉल्यूशन किस विक्रेता ने प्रदान किया?  
Which vendor provided the ATM solution for the IT Modernization project?

- (A) NCR and AGSWINCOR (B) HDFC  
(C) ORACLE (D) IBM

24. ഡിജിപിൻ സവിശേഷതകൾ ഇവയാണ്:  
डिजिपिन की विशेषताएं निम्नलिखित हैं:  
The following are the features of DIGIPIN:  
(i) DIGIPIN has 10 character alpha numeric code  
(ii) The approximate Grid size of DIGIPIN is 5m x 5m square  
(iii) DIGIPIN is derived from latitude and longitude of a location  
(iv) DIGIPIN stores personal data of the addressee

- (A) (i), (ii), (iii) and (iv) are correct (B) (i) and (iii) are correct  
(C) (i), (iii) and (iv) are correct (D) (i), (ii) and (iii) are correct

25. ധ്രുവ (DHRUVA) എന്നാൽ എന്താണ്/ കാ मतलब है/ stands for

- (A) Digital Hub for Reference and Unique Virtual Address  
(B) Digital Hub for Rural and Urban Virtual Access  
(C) Data Handling and Retrieval Unit for Virtual Applications  
(D) Dynamic Hosting Resource for Unified Virtual Archives

26. ഐടി 2.0 ദർപ്പൺ  
आईटी 2.0 दर्पण से प्रतिस्थापित किया गया  
IT 2.0 Darpan is replaced with

- (A) ESS App (B) IMA App (C) Dak Seva App (D) IME App

27. സിപിഗ്രാമസ് (CPGRAMS) എന്നാൽ എന്താണ്/ കാ मतलब है/ stand for

- (A) Customer public Grievance Redressal and Management system  
(B) Centralized Public Grievance Redress and Monitoring System  
(C) Centralized Portal for Grievance Redress and Monitoring System  
(D) Customer Portal for Grievance Redressal and Monitoring System

28. ഡയറക്ട് പോസ്റ്റിന്റെ സവിശേഷതകൾ ഇവയാണ്:  
डायरेक्ट पोस्ट की विशेषताएं हैं:  
The features of Direct Post are:  
(i) A minimum quantity of 1000 pieces can be accepted under direct post  
(ii) Direct post articles should not exceed the length and width of an Inland Letter Card  
(iii) Direct post articles can be sent outside India  
(iv) Direct post will bear no address or name on the communication

- (A) (i), (ii), (iii) and (iv) are correct (B) (i), (ii) and (iv) are correct  
(C) (i) and (iv) are correct (D) (ii), (iii) and (iv) correct

29. നെഫ്റ്റ് ആൻഡ് റിഗിസ്റ്റ് എന്നിവയ്ക്കായി തപാൽ വകുപ്പിന്റെ ഐഎഫ്എസ്സി നെഫ്റ്റ് ഓർ ഓർടിജിഎസ് ക്ക് ലിങ്ക് ടാക് വിഭാഗം കാ ഓഐഎഫ്എസ്സി  
IFSC of DOP for NEFT and RTGS is

- (A) IPS00000DOP (B) IPOS0000DOP (C) DOPS0000IP (D) DOPS0000IPO

30. തപാൽ വകുപ്പിന്റെ ഇന്റർനെറ്റ് ബാങ്കിംഗ് ലഭിക്കുന്നതിനുള്ള മുൻവ്യവസ്ഥകൾ താഴെ പറയുന്നവയാണ്.  
डाक विभाग इंटरनेट बैंकिंग का लाभ उठाने के लिए पूर्वपिछाएं निम्नलिखित हैं  
Following are the pre requisites for availing DOP internet banking  
(i) Valid mobile number  
(ii) Valid email address  
(iii) PAN number  
(iv) Valid Joint A savings account

- (A) (i), (ii), (iii) and (iv) are correct (B) (i), (ii) and (iv) are correct  
(C) (i), (iii) and (iv) are correct (D) (i), (ii) and (iii) correct

31. അന്താരാഷ്ട്ര ഫിലാറ്റലിക് ഡെപ്പോസിറ്റ് അക്കൗണ്ടുകൾ അവസാനിപ്പിക്കുവാനും താഴെ പറയുന്ന റീഫൻഡ് മോഡുകൾ തിരഞ്ഞെടുക്കുവാനും കഴിയും.  
अंतरराष्ट्रीय फिलैटेलिक जमा खाते बंद किए जा सकते हैं और निम्नसूचित धनवापसी तरीके का चयन किया जा सकता है:  
International Philatelic deposit accounts can be closed and select the following refund modes:  
(i) Bank transfer  
(ii) POSB transfer  
(iii) Money order  
(iv) Cheque

- (A) (i), (ii), (iii) and (iv) are correct (B) (ii) and (iii) are correct  
(C) (i), (iii) and (iv) are correct (D) (ii), (iii) and (iv) correct

32. താഴെ പറയുന്നവയിൽ ശരിയായി യോജിപ്പിച്ചിരിക്കുന്നത്  
निम्नसूचित सही ढंग से मिलान किया गया है:  
The following is correctly matched:  
(i) Commemorative stamp:- postage often issued on a significant date such as anniversary to honor or commemorate a place, event, person or object.



(ii)	Definitive stamps:- postage stamps available for sale by post office for every day postal needs of the country.
(iii)	Service postage stamps:- postage stamps used for official mail posted by Government or semi Government
(iv)	Mint stamps:- used postage stamps

(A)	(i), (ii), (iii) and (iv) are correct	(B)	(i), (ii) and (iii) are correct
(C)	(i), (iii) and (iv) are correct	(D)	(ii), (iii) and (iv) are correct

33.	ഡിജിറ്റലൈസ് ചെയ്ത പോസ്റ്റൽ ലൈഫ് ഇൻഷുറൻസ് പോളിസി ഇ ബോണ്ട്: डिजिटल के माध्यम से डाक जीवन बीमा पॉलिसी ई बॉन्ड: PLI policy e bond through Digilocker: (i) Can be downloaded by all existing PLI policy holders using Digilocker app (ii) The print copy downloaded from the Digilocker is a valid copy for verification (iii) Aadhar is mandatory for downloading the PLI policy from Digilocker (iv) Policy holder can download any number of times the digital policy bond from Digilocker
-----	------------------------------------------------------------------------------------------------------------------------------------------------------------------------------------------------------------------------------------------------------------------------------------------------------------------------------------------------------------------------------------------------------------------------------------------------------------------------------------------------------------

(A)	(i), (ii), (iii) and (iv) are correct	(B)	(i), (ii) and (iv) are correct
(C)	(i), (iii) and (iv) are correct	(D)	(i), (iii) and (iv) are correct

34.	ഓട്ടോ പെയ്ഡ് അപ്പ് പോസ്റ്റൽ ലൈഫ് ഇൻഷുറൻസ് പോളിസി എന്നാൽ: ऑटो पेड अप डाक जीवन बीमा पॉलिसी का मतलब है: Auto paid up PLI policy means (i) In which 36 or more premiums have been paid (ii) Has completed 3 years or more duration from the date of its acceptance (iii) Policy holder discontinues payment of further premia without intimation (iv) Policy shall be treated as matured on the date of discontinuation of payment of further premia
-----	--------------------------------------------------------------------------------------------------------------------------------------------------------------------------------------------------------------------------------------------------------------------------------------------------------------------------------------------------------------------------------------------------------------------------------------------------------------------

(A)	(i), (ii), (iii) and (iv) are correct	(B)	(i), (ii) and (iv) are correct
(C)	(i), (ii) and (iii) are correct	(D)	(ii), (iii) and (iv) are correct

35.	ബുക്കിംഗ് തീയതിക്ക് ശേഷം നഷ്ടപരിഹാരവുമായി ബന്ധപ്പെട്ട് ഇനി പറയുന്ന അന്താരാഷ്ട്ര തപാലുറപ്പടികളുമായി ബന്ധപ്പെട്ട പരാതി സമർപ്പിക്കുന്നതിനുള്ള സമയപരിധി താഴെ പറയുന്നതാണ്: बुकिंग की तारीख के बाद मुआवज़े के मामले में निम्नलिखित अंतरराष्ट्रीय डाक वस्तुओं के संबंध में शिकायत दर्ज करने की समयवधि निम्नानुसार है: The time period to file a complaint in respect of the following international articles for the case of compensation after the date of booking is as under: (i) Registered and Insured article - 6 months (ii) International tracked packet service (ITPS) - 9 months (iii) Parcel - 1 year (iv) Express mail service -4 months
-----	-----------------------------------------------------------------------------------------------------------------------------------------------------------------------------------------------------------------------------------------------------------------------------------------------------------------------------------------------------------------------------------------------------------------------------------------------------------------------------------------------------------------------------------------------------------------------------------------------------------------------------------------------------------------

(A)	(i), (ii), (iii) and (iv) are correct	(B)	(i) and (iv) are correct
(C)	(i), (iii) and (iv) are correct	(D)	(ii), (iii) and (iv) are correct

36.	ഐപിപിബിയിലൂടെ ഡയറക്ട് മണി ട്രാൻസ്ഫറിന് താഴെപ്പറയുന്ന സവിശേഷതകളുണ്ട്: आईपीपीबी के प्रत्यक्ष धन अंतरण की निम्नसूचित विशेषताएं हैं: Direct money transfer of IPPB has the following features (i) Allowing cash to account fund transfer for non IPPB customers/ remitters (ii) Instant confirmation to remitter via SMS (iii) Remitters identification to be done using mobile number (iv) Service charges @ of 2% of transaction value and minimum service charge of ₹20/-
-----	--------------------------------------------------------------------------------------------------------------------------------------------------------------------------------------------------------------------------------------------------------------------------------------------------------------------------------------------------------------------------------------------------------------------------------------------------------------------------------------------

(A)	(i), (ii) and (iii) are correct	(B)	(i), (ii) and (iv) are correct
(C)	(i), (iii) and (iv) are correct	(D)	(i), (ii), (iii) and (iv) are correct

37.	ജീവൻ പ്രമാണിന്റെ പ്രധാന സവിശേഷതകൾ താഴെ പറയുന്നവയാണ്: जीवन प्रमाण की मुख्य विशेषताएं निम्नसूचित हैं: Following are the key features of Jeevan Praman (i) This service is available only for IPPB Customers (ii) For every successful generation of Jeevan Praman, a fee of ₹100 including GST will be charged (iii) Jeevan praman ID is shared with pensioner by NIC directly (iv) Additional door step charges to be paid by customers for issuance of Jeevan praman
-----	----------------------------------------------------------------------------------------------------------------------------------------------------------------------------------------------------------------------------------------------------------------------------------------------------------------------------------------------------------------------------------------------------------------------------------------------------------------------------------------

(A)	(i) and (ii) are correct	(B)	only (ii) is correct
(C)	(ii) and (iii) are correct	(D)	only (iii) is correct

38.	ഐപിപിബിയിലൂടെ ഡിജി സ്മാർട്ട് സേവിംഗ് അക്കൗണ്ടിന് താഴെപ്പറയുന്ന പ്രധാന സവിശേഷതകളും നേട്ടങ്ങളുമുണ്ട്: आईपीपीबी के डिजी स्मार्ट बचत खाते में निम्नलिखित मुख्य विशेषताएं और लाभ हैं: Digi Smart savings account of IPPB has the following key features and benefits (i) No charges for non-maintenance of minimum balance (ii) Digital banking through virtual debit cards (iii) Can be upgraded to premium saving account of IPPB (iv) A maximum yearly cumulative deposit of ₹500000/- is allowed in the Digi Smart savings account
-----	-----------------------------------------------------------------------------------------------------------------------------------------------------------------------------------------------------------------------------------------------------------------------------------------------------------------------------------------------------------------------------------------------------------------------------------------------------------------------------------------------------------------------------------------------------

(A)	(i), (ii), (iii) and (iv) are correct	(B)	(i), (ii) and (iii) are correct
(C)	(i), (iii) and (iv) are correct	(D)	(ii), (iii) and (iv) correct

39.	ഐപിപിബി വഴി വാഗ്ദാനം ചെയ്യുന്ന നിവ ബുപ ടോപ്പ് അപ്പ് പെൻഷൻ ഇൻഷുറൻസ് പ്ലാനിൽ ഇനിപ്പറയുന്ന സവിശേഷതകൾ ഉണ്ട്: आईपीपीबी के माध्यम से पेश की जानेवाली निवा बूपा टॉप अप स्वास्थ्य बीमा योजना की निम्नसूचित विशेषताएं हैं: Niva Bupa Top Up Health Insurance plan offered through IPPB has the following features (i) Coverage from 1 lakh extendable up to 15 lakh (2 lakh deductible) (ii) No coverage for outpatient treatment (iii) Hospital daily cash ₹50/day up to 30 days (iv) Tax benefit Under Sec 80 D
-----	----------------------------------------------------------------------------------------------------------------------------------------------------------------------------------------------------------------------------------------------------------------------------------------------------------------------------------------------------------------------------------------------------------------------------------------------------------------------------------------------------------------------------

(A)	(i), (ii), (iii) and (iv) are correct	(B)	(i), (ii) and (iv) are correct
(C)	(i), (iii) and (iv) are correct	(D)	(ii), (iii) and (iv) are correct

40. ബുക്കിംഗ് സമയത്ത് നൽകിയ വിലാസത്തിന് പുറത്തുള്ള മറ്റൊരു വിലാസത്തിലേക്ക് മെയിൽ ഉരുപ്പടികളുടെ വിതരണം താഴെ പറയുന്ന പ്രകാരം ചെയ്യാവുന്നതാണ്:  
बुकिंग के समय दिए गए पते के अलावा किसी अन्य पते पर डाक वस्तुओं का वितरण निम्न प्रकार से किया जा सकता है:  
Delivery of mail articles to an address other than the one provided at the time of booking may be made as follows:
- |       |                                                                                                                                                                                                                                                                |
|-------|----------------------------------------------------------------------------------------------------------------------------------------------------------------------------------------------------------------------------------------------------------------|
| (i)   | When the addressee submits a formal request to the Post Office to deliver the article to a different address due to a change in residence, the article may be redirected accordingly.                                                                          |
| (ii)  | If the current occupants at the address specified on the article inform the delivery personnel that the addressee has relocated and provide the new address, the item may be delivered to the alternate address after verification                             |
| (iii) | When the item is addressed to an office or institution and the recipient has been transferred to another branch or location of the same organization, the article may be redirected to the new address provided by the organization with proper authorization. |
| (iv)  | If the Contractual Customers provides second delivery address in a different city at the time of booking at the Post office, the article can be redirected to a different address from the one, initially provided on the article, if applicable.              |
- |     |                                       |     |                                 |
|-----|---------------------------------------|-----|---------------------------------|
| (A) | (i), (ii), (iii) and (iv) are correct | (B) | (i) and (iv) are correct        |
| (C) | (i), (iii) and (iv) are correct       | (D) | (i), (ii) and (iii) are correct |

41. "franc de taxes et de droits" അർത്ഥമാക്കുന്നത് / का मतलब है/ means
- |     |                                    |     |                   |
|-----|------------------------------------|-----|-------------------|
| (A) | Free of charges and fees           | (B) | Franked articles  |
| (C) | Franked articles and taxes prepaid | (D) | None of the above |

42. താഴെ പറയുന്ന അക്കൗണ്ടുകൾ അവയുടെ നേരേ രേഖപ്പെടുത്തിയിരിക്കുന്ന തീയതി മുതൽ തപാൽ വകുപ്പ് ഇന്റർനെറ്റ് ബാങ്കിംഗ് വഴി അവസാനിപ്പിക്കാവുന്നതാണ്.  
निम्नलिखित खातों को डाक विभाग इंटरनेट बैंकिंग के माध्यम से प्रत्येक के सामने अंकित तारीख से बंद किया जा सकता है  
The following accounts can be closed through DOP internet banking with effect from the date noted against each
- |     |                                                    |
|-----|----------------------------------------------------|
| (A) | MIS account - 20.4.2024 & SCSS account - 17.8.2024 |
| (B) | MIS account - 17.8.2024 & SCSS account - 20.4.2024 |
| (C) | MIS account - 20.4.2024 & SCSS account - 17.9.2024 |
| (D) | MIS account - 17.9.2024 & SCSS account - 20.4.2024 |

43. പാൻ പരിശോധനയുടെ പ്രതികരണങ്ങൾക്കനുസൃതമായി ഇനിപ്പറയുന്ന നടപടികൾ താഴെ പറയുന്ന പ്രകാരമാണ്.  
पैन सत्यापन की प्रतिक्रियाओं के अनुसार निम्नसूचित कार्य नीचे दिए गए अनुसार हैं:  
Following actions in accordance with the responses of the PAN verification are as under:
- |       |                                                                  |                                        |
|-------|------------------------------------------------------------------|----------------------------------------|
| (i)   | If the PAN status is 'E' - Existing and Valid                    | PAN may be accepted                    |
| (ii)  | If the PAN Status is 'E' and Name status as 'N' -Not Matched     | PAN shall not be accepted as valid PAN |
| (iii) | If the PAN Status is E and if the DOB status is 'N' -Not Matched | PAN shall not be accepted as valid PAN |

(iv)	If the PAN status is 'E' and if the Aadhar-PAN Status is 'NA -Non- Individual PANs'	PAN may be accepted as valid PAN
------	-------------------------------------------------------------------------------------	----------------------------------

(A)	(ii), (iii) and (iv) are correct	(B)	(i) and (iv) are correct
(C)	(i), (ii) and (iii) are correct	(D)	(i), (iii) and (iv) are correct

44. "service unpaid " തപാലുരുപ്പടികളുടെ കാര്യത്തിൽ താഴെപ്പറയുന്ന കാര്യങ്ങൾ ശരിയാണോ അല്ലയോ:  
"सेवा अदत्त" सामग्री के मामले में क्या निम्नलिखित सही है:  
Whether the following is correct in the case of "service unpaid" article
- |       |                                                                                                                                                                                             |
|-------|---------------------------------------------------------------------------------------------------------------------------------------------------------------------------------------------|
| (i)   | Delivery clerk should attest the charge by placing his initials under the amount entered in the postage due stamp                                                                           |
| (ii)  | In the case of after delivery and omission of superscription "service unpaid", request made by the Government officer to initial the postage taxed, should be complied by the Postmaster    |
| (iii) | In the case of after delivery and omission of superscription "service unpaid" request made by the Government officer to initial the postage taxed, should not be complied by the Postmaster |
| (iv)  | Delivery clerk need not attest the charge by placing his initials under the amount entered in the postage due stamp                                                                         |
- |     |                            |     |                           |
|-----|----------------------------|-----|---------------------------|
| (A) | (iii) and (iv) are correct | (B) | (i) and (ii) are correct  |
| (C) | (i) and (iii) are correct  | (D) | (ii) and (iv) are correct |

45. സബ് പോസ്റ്റ്മാസ്റ്റർ പ്രതിമാസ റിപ്പോർട്ടിൽ താഴെപറയുന്നവയും ഉൾപ്പെടുത്തണം  
उप डाकपाल की मासिक रिपोर्ट में यह भी शामिल होना चाहिए  
Sub postmaster's monthly report should also contain
- |       |                                                    |
|-------|----------------------------------------------------|
| (i)   | Statistics of savings bank and NSC transactions    |
| (ii)  | Money orders issued and paid                       |
| (iii) | Insured letters and parcels                        |
| (iv)  | Ordinary registered letters and registered parcels |
- |     |                                  |     |                                   |
|-----|----------------------------------|-----|-----------------------------------|
| (A) | Only (i) and (ii) correct        | (B) | Only (ii) and (iii) correct       |
| (C) | Only (i), (ii) and (iii) correct | (D) | (i), (ii), (iii) and (iv) correct |

46. ബാഗുകൾ അടയ്ക്കുന്നതിനുള്ള സ്ഥിതിവിവരക്കണക്ക് ന്യായീകരണം ഇപ്രകാരമാണ്:  
थैला बंद करने का सांख्यिकीय औचित्य इस प्रकार है:  
Statistical justification for closing of bags is follows
- |       |                                                              |
|-------|--------------------------------------------------------------|
| (i)   | Surface L Bags: More than 50 articles                        |
| (ii)  | Surface D bags: More than 50 articles, 10 registered letters |
| (iii) | Air mail PC: Between 50 to 150 articles                      |
| (iv)  | Airmail bags: More than 150 articles                         |
- |     |                                  |     |                                |
|-----|----------------------------------|-----|--------------------------------|
| (A) | (ii), (iii) and (iv) are correct | (B) | Only (i) and (iv) are correct  |
| (C) | (i), (iii) and (iv) are correct  | (D) | (i), (ii) and (iv) are correct |



47. RMS യൂണിറ്റിനെ സംബന്ധിച്ചുള്ള ചുരുക്കെഴുത്തുകളിൽ ഏതാണ് ശരി?  
RMS इकाई के संबंध में निम्नलिखित में से कौन सा संक्षिप्त नाम सही है?  
Which of the following abbreviations in respect of RMS unit is correct?
- |       |                           |
|-------|---------------------------|
| (i)   | TS = Transit Section      |
| (ii)  | SMO = Sorting Mail Office |
| (iii) | TMO = Transit Mail Office |
| (iv)  | MO = Mail Office          |

(A)	(ii), (iii) and (iv) are correct	(B)	(i) and (iv) are correct
(C)	(i), (ii) and (iii) are correct	(D)	(i), (ii), (iii) and (iv) are correct

48. സിറ്റി ഡിവിഷനുകളിലെ ഡിവിഷണൽ ഓഫീസുകളിലെ SSRM / SRM / ASRM-കൾ മെയിൽ ഓഫീസുകളിലേക്ക് നടത്തുന്ന ഏറ്റവും കുറഞ്ഞ സന്ദർശന ആവൃത്തി  
सिटी मंडल के मंडल कार्यालय के वरिष्ठ अधीक्षक रेल डाक सेवा / अधीक्षक रेल डाक सेवा / सहायक अधीक्षक रेल डाक सेवा द्वारा मेल कार्यालय में दौरे की न्यूनतम आवृत्ति  
Minimum frequency of visits by SSRM / SRM / ASRMs of Divisional Office of City Divisions to Mail offices are

(A)	2 visits a week to a mail offices, each night set twice a fortnight, one post office a week
(B)	2 visits a week to a mail offices, each night set once a fortnight, one post office a week
(C)	3 visits a week to a mail offices, each night set twice a fortnight, 2 post offices a week
(D)	3 visits a week to a mail offices, each night set once a fortnight, one post office a week

49. Sacs Collecteurs എന്താണ്/ क्या हैं  
Sacs Collecteurs are

(A)	Airmails enclosed in a bag for a country other than to which the articles are addressed
(B)	Airmails received duly advised on form AV- 7
(C)	Airmails enclosed in a bag and collected in case of misconnection of mail
(D)	Airmails containing savaged mail

50. വിദേശ രാജ്യത്തേക്ക് തിരിച്ചയക്കുന്ന കാലി ബാഗുകളുടെ ലേബൽ നിറത്തിലായിരിക്കണം.  
विदेश लौटाए गए खाली बैले पर बैला लेबल रंग का होना चाहिए  
Empty bags returned to foreign country bag label must be of colour

(A)	Red	(B)	Green	(C)	Blue	(D)	Yellow
-----	-----	-----	-------	-----	------	-----	--------

## PART -B

51. ഇഎഫ്ടിഎ (EFTA) എന്താണ്/ ईएफटीए (EFTA) का मतलब है  
EFTA stands for

(A)	European Free Trade Association	(B)	European Fair Trade Application
(C)	Emirates Fair Trade Association	(D)	Emirates flight Training Application

52. പൗരത്വ ഭേദഗതി നിയമം വിജ്ഞാപനം ചെയ്തത് ന് ആണ്  
नागरिकता संशोधन नियम को अधिसूचित किया गया  
Citizenship Amendment Rules was notified on

(A)	April 11, 2024	(B)	March 11, 2024
(C)	March 12, 2024	(D)	April 12, 2024

53. അന്താരാഷ്ട്ര ബഹിരാകാശ നിലയത്തിലെത്തിയ ആദ്യ ഇന്ത്യക്കാരൻ  
अंतरराष्ट्रीय अंतरिक्ष स्टेशन पहुँचनेवाले पहले भारतीय  
The first Indian to reach International space station

(A)	Rakesh Sharma	(B)	Kalpana Chawla
(C)	Shubhanshu Shukla	(D)	Prashant Nair

54. അഹലു നഗർ എക്സ്പ്രസ് ട്രെയിനിൽ മദ്ധ്യഭാരതത്തിലെ ഏതു നഗരത്തെയാണ് കേരളത്തിലെ കൊച്ചുപേളിയുമായി ബന്ധിപ്പിക്കുന്നത്?  
अहिल्या नगर एक्सप्रेस ट्रेन मध्य भारत के किस शहर को केरल के कोच्चुवेली से जोड़ती है?  
Which City in Central India does Ahilya Nagari Express Train connect to Kochuvveli in Kerala?

(A)	Indore	(B)	Gwalior	(C)	Nizamuddin	(D)	Yog Nagari
-----	--------	-----	---------	-----	------------	-----	------------

55. അയോധ്യയിലെ വിമാനത്താവളത്തിന് ഏത് പേരാണ് നൽകിയിട്ടുള്ളത്  
अयोध्या के हवाई अड्डे का नाम के नाम पर रखा गया है  
Airport in Ayodhya named after

(A)	Lord Rama	(B)	Gautham Budha
(C)	Maharshi Valmiki	(D)	Tulasidas

56. ഗൂഗിൾ വികസിപ്പിച്ചെടുത്ത ജനറേറ്റീവ് ആർട്ടിഫിഷ്യൽ ഇന്റലിജൻസ് ചാറ്റ്ബോട്ടിന്റെ പേരെന്താണ്?  
गूगल द्वारा विकसित जनरेटिव आर्टिफिशियल इंटेलिजेंस चैटबॉट को क्या कहा जाता है?  
What is the generative artificial intelligence chatbot developed by Google called?

(A)	Chat GPT	(B)	Meta AI	(C)	Siri	(D)	Gemini
-----	----------	-----	---------	-----	------	-----	--------

57. പ്രധാനമന്ത്രി മുദ്ര യോജന എന്താണ്/ प्रधानमंत्री मुद्रा योजना क्या है  
Pradhan Mantri Mudra Yojana is

(A)	Loan to non-corporate, non-farm small / micro enterprises
(B)	Immediate employment and livelihood opportunities to migrant worker
(C)	Reduce poverty and vulnerability of urban poor households through self employment
(D)	Provide Industry relevant skill training to youth to enhance their employability

58. മിതാലി രാജ് എന്ന പേര് എന്തുമായി ബന്ധപ്പെട്ടിരിക്കുന്നു  
मिताली राज, इस नाम का संबंध किससे है  
The name Mithali Raj is related to
- |     |          |     |        |     |         |     |        |
|-----|----------|-----|--------|-----|---------|-----|--------|
| (A) | Football | (B) | Tennis | (C) | Cricket | (D) | Hockey |
|-----|----------|-----|--------|-----|---------|-----|--------|
59. രാജ്പഥ്, ന്യൂഡൽഹി ഇപ്പോൾ എന്ത് പേരിലാണ് അറിയപ്പെടുന്നത്  
राजपथ, नई दिल्ली अब किस नाम से जाना जाता है  
Rajpath, New Delhi is now known as
- |     |               |     |                          |
|-----|---------------|-----|--------------------------|
| (A) | Jan Path      | (B) | Rashtrapathi Bhavan Path |
| (C) | Kartavya Path | (D) | Veer Jawan Path          |
60. പോർട്ട് ബ്ലെയർ ഈ പേരിലാണ് പുനർനാമകരണം ചെയ്യപ്പെട്ടത്  
पोर्ट ब्लेयर का पुनर्नामकरण इस नाम से किया गया  
Port Blair renamed as
- |     |                 |     |               |
|-----|-----------------|-----|---------------|
| (A) | Sri Vijayapuram | (B) | Netajipuram   |
| (C) | Swaraj dweep    | (D) | Shaheed dweep |
61.  $4.59 \times 1.8 \div 3.6 + 5.4 \text{ of } 1/9 - 1/5$
- |     |       |     |       |     |       |     |       |
|-----|-------|-----|-------|-----|-------|-----|-------|
| (A) | 2.695 | (B) | 2.795 | (C) | 3.695 | (D) | 3.795 |
|-----|-------|-----|-------|-----|-------|-----|-------|
62.  $4(10+15 \div 5 \times 4 - 2 \times 2)$
- |     |     |     |    |     |    |     |    |
|-----|-----|-----|----|-----|----|-----|----|
| (A) | 192 | (B) | 72 | (C) | 82 | (D) | 92 |
|-----|-----|-----|----|-----|----|-----|----|
63. ഒരു ഗ്രാമത്തിലെ ജനസംഖ്യയുടെ 18% കുട്ടികളാണ്, കുട്ടികളുടെ 10% പെൺകുട്ടികളാണ്. പെൺകുട്ടികളുടെ എണ്ണം 90 ആണെങ്കിൽ ജനസംഖ്യ എത്രയാണ്?  
एक गाँव में, 18% आबादी बच्चे है और 10% बच्चे लड़कियाँ हैं। यदि लड़कियों की संख्या 90 है, तो जनसंख्या कितनी है?  
In a village, 18% of the populations are children and 10% of children are female. If the number of female children is 90, what is the population?
- |     |     |     |      |     |     |     |      |
|-----|-----|-----|------|-----|-----|-----|------|
| (A) | 500 | (B) | 5000 | (C) | 600 | (D) | 6000 |
|-----|-----|-----|------|-----|-----|-----|------|
64. ഒരു പുസ്തകത്തിന്റെ വിലയിൽ 10% അച്ചടിചെലവ്, 20% പേപ്പർ ചെലവ്, മറ്റൊരു 15% പണിക്കുലി എന്നിവ ഉൾപ്പെടുന്നു. ബാക്കി ₹110 ആണെങ്കിൽ, പുസ്തകത്തിന്റെ ആകെ വില എത്രയാണ്?  
एक पुस्तक की कीमत में 10% मुद्रण लागत, 20% कागज लागत और 15% श्रम लागत शामिल है। यदि शेष ₹110 है, तो पुस्तक की कुल कीमत क्या है?  
The price of a book includes 10% printing cost, 20% paper cost and another 15% labour cost. If the remainder is ₹110, what is the total price of the book?
- |     |      |     |      |     |      |     |      |
|-----|------|-----|------|-----|------|-----|------|
| (A) | ₹200 | (B) | ₹300 | (C) | ₹400 | (D) | ₹500 |
|-----|------|-----|------|-----|------|-----|------|

65. 1060 രൂപയ്ക്ക് ഒരു സാധനം വിൽക്കുന്നതിലൂടെ ലഭിക്കുന്ന ലാഭം, 950 രൂപയ്ക്ക് ഒരു സാധനം വിൽക്കുന്നതിലൂടെ ഉണ്ടാകുന്ന നഷ്ടത്തേക്കാൾ 20% കൂടുതലാണ്. 20% ലാഭം ലഭിക്കാൻ സാധനം എത്ര വിലയ്ക്ക് വിൽക്കണം?  
एक वस्तु को ₹1060 में बेचने पर अर्जित लाभ, वस्तु को ₹950 में बेचने पर हुई हानि से 20% अधिक है। 20% लाभ अर्जित करने के लिए वस्तु को किस मूल्य पर बेचना चाहिए?  
Profit earned by selling an article for ₹1060 is 20% more than the loss incurred by selling the article for ₹950/-. At what price should the article be sold to earn 20% profit?
- |     |        |     |       |     |       |     |        |
|-----|--------|-----|-------|-----|-------|-----|--------|
| (A) | ₹ 1800 | (B) | ₹1080 | (C) | ₹1000 | (D) | ₹ 1200 |
|-----|--------|-----|-------|-----|-------|-----|--------|
66. ഒരു വ്യാപാരി രണ്ട് വ്യത്യസ്ത തരയിലാത്താട്ടങ്ങളിൽ നിന്നുള്ള രണ്ട് തരം തേയിലുകൾ, ഒന്നിന് കിലോഗ്രാമിന് 45 രൂപയും മറ്റൊന്നിന് 60 രൂപയും യഥാക്രമം 7:3 എന്ന അനുപാതത്തിൽ കൂട്ടിക്കലർത്തുന്നു. അയാൾ മിശ്രിത ഇനം കിലോഗ്രാമിന് 54.45 രൂപയ്ക്ക് വിൽക്കുന്നു. അയാളുടെ ലാഭ ശതമാനം എത്രയാണ്?  
एक व्यापारी दो अलग-अलग चाय बागानों से दो प्रकार की चाय, जिसमें से एक की कीमत ₹45 प्रति किलोग्राम और दूसरी की कीमत ₹60 प्रति किलोग्राम है, क्रमशः 7: 3 के अनुपात में मिश्रित करते हैं। वे मिश्रित प्रकार को ₹54.45 प्रति किलोग्राम पर बेचते हैं। उनका लाभ प्रतिशत है  
A merchant blends two varieties of tea from two different tea gardens, one costing ₹45 per Kg and other ₹60 per Kg in the ratio of 7:3 respectively. He sells the blended variety at ₹54.45 per kg. His profit percent is
- |     |    |     |     |     |                   |     |                   |
|-----|----|-----|-----|-----|-------------------|-----|-------------------|
| (A) | 5% | (B) | 10% | (C) | $9\frac{1}{11}\%$ | (D) | $11\frac{1}{9}\%$ |
|-----|----|-----|-----|-----|-------------------|-----|-------------------|
67. ഒരു വാഷിംഗ് മെഷീന്റെ രേഖപ്പെടുത്തിയ വില 7200/- രൂപയാണ്. രേഖപ്പെടുത്തിയ വിലയുടെ  $16\frac{2}{3}\%$  കിഴിവ് വിൽക്കുകയാണെങ്കിൽ, ലാഭം 25% ആണ്. അടയാളപ്പെടുത്തിയ വിലയേക്കാൾ 1600/- രൂപയ്ക്ക് വിൽക്കുകയാണെങ്കിൽ  
एक वॉशिंग मशीन का अंकित मूल्य ₹7200/- है। यदि उसे अंकित मूल्य पर  $16\frac{2}{3}\%$  की छूट पर बेचा जाता है, तो लाभ 25% होता है। यदि इसे अंकित मूल्य से ₹1600/- कम मूल्य पर बेचते हैं, तो  
Marked price of a washing machine is ₹7200/-. If it is sold at a discount of  $16\frac{2}{3}\%$  of the marked price, the gain is 25%. If it is sold for ₹1600/- below marked price, then there is a
- |     |                           |     |                           |
|-----|---------------------------|-----|---------------------------|
| (A) | Loss of $16\frac{2}{3}\%$ | (B) | Gain of $14\frac{2}{7}\%$ |
| (C) | Loss of $14\frac{2}{7}\%$ | (D) | Gain of $16\frac{2}{3}\%$ |
68. 4800 രൂപയ്ക്ക് 8 ½% വാർഷിക നിരക്കിൽ 2 വർഷവും 3 മാസവും കാലാവധിയുള്ള സാധാരണ പലിശ എത്രയെന്ന് കണ്ടെത്തുക  
₹4800 पर 8 ½% प्रति वर्ष की दर से 2 वर्ष 3 महीने की अवधि के लिए साधारण ब्याज ज्ञात कीजिए।  
Find the simple interest on ₹4800 at the rate of 8 ½% per annum for a period of 2 years 3 months.
- |     |      |     |      |     |      |     |      |
|-----|------|-----|------|-----|------|-----|------|
| (A) | ₹796 | (B) | ₹816 | (C) | ₹918 | (D) | ₹990 |
|-----|------|-----|------|-----|------|-----|------|
69. 8000 രൂപ സാധാരണ പലിശ നിരക്കിൽ 3 വർഷത്തിനുള്ളിൽ 9200 രൂപയായി മാറുന്നു. പലിശ നിരക്ക് 3% വർദ്ധിപ്പിച്ചാൽ, അത് എത്രയാകും  
₹8000 की राशि साधारण ब्याज पर 3 वर्ष में ₹9200 हो जाते हैं। यदि ब्याज दर में 3% की वृद्धि की जाती है, तो यह राशि क्या होगी  
An amount of ₹8000/- becomes ₹9200/- in 3 years at simple interest. If rate of interest is increased by 3%, it would amount to
- |     |       |     |        |     |        |     |        |
|-----|-------|-----|--------|-----|--------|-----|--------|
| (A) | ₹9920 | (B) | ₹10560 | (C) | ₹11120 | (D) | ₹11820 |
|-----|-------|-----|--------|-----|--------|-----|--------|



70. 'A', 'B' ക്ക് 2 വർഷത്തേക്ക് 600 രൂപയും 'C' ക്ക് 4 വർഷത്തേക്ക് 150 രൂപയും കടം കൊടുത്തു. രണ്ടിൻ നിന്നും 90 രൂപ സ്വാധാരണ പലിശയായി ലഭിച്ചു. പലിശ നിരക്ക് എത്രയാണ് 'ए' ने 'बी' को 2 वर्ष के लिए ₹600 तथा 'सी' को 4 वर्ष के लिए ₹150 उधार दिए तथा दोनों से कुल मिलाकर ₹90 साधारण ब्याज के रूप में प्राप्त किया। ब्याज का दर क्या है 'A' lent ₹600 to 'B' for 2 years and ₹150 to 'C' for 4 years and received altogether from both ₹90 as Simple Interest. The rate of interest is

(A) 12%	(B) 10%	(C) 5%	(D) 4%
---------	---------	--------	--------

71. ഒരാൾ ഒരു നിശ്ചിത ദൂരം മണിക്കൂറിൽ 90 കി.മീ വേഗതയിൽ പിന്നിട്ട് 60 കി.മീ വേഗതയിൽ തിരികെ ആരംഭ സ്ഥാനത്തേക്ക് മടങ്ങുന്നു. മുഴുവൻ യാത്രയിലും അയാളുടെ ശരാശരി വേഗത എത്രയാണ്  
एक व्यक्ति एक निश्चित दूरी 90 किमी/घंटा की गति से तय करते हैं और 60 किमी/घंटा की गति से प्रारंभिक बिंदु पर वापस लौटते हैं। पूरी यात्रा के दौरान उनकी औसत गति क्या है? A man covers a certain distance at 90 km/hr and returns back to the starting point at 60 km/hr. His average speed during the whole journey is

(A) 60 km/hr	(B) 65 km/hr	(C) 72 km/hr	(D) 75 km/hr
--------------	--------------	--------------	--------------

72. ഒരു കാർ 36 മിനിറ്റിനുള്ളിൽ ഒരു നിശ്ചിത ദൂരം പിന്നിടുന്നു. കാർ ശരാശരി 50 കി.മീ വേഗതയിൽ ആണ് ഓടുന്നത്. യാത്രാ സമയം 6 മിനിറ്റ് കുറയ്ക്കാൻ കാർ ഓടേണ്ട വേഗത എന്ന് 36 മിനറ്റ് ഒരു ദൂരി തയ്ക്കുന്നു. यह औसत 50 किमी प्रति घंटे की गति से चलती है। यात्रा का समय 6 मिनट कम करने के लिए कार को जिस गति से चलना होगा A car covers a distance in 36 minutes. It runs at 50 kmph on an average. The speed at which the car must run to reduce the time of journey by 6 minutes will be

(A) 30 kmph	(B) 42.86 kmph	(C) 55 kmph	(D) 60 kmph
-------------	----------------	-------------	-------------

73. തുടർച്ചയായ 7 സംഖ്യകളുടെ ശരാശരി 203 ആണെങ്കിൽ, ഏറ്റവും ചെറിയ സംഖ്യയുടെയും രണ്ടാമത്തെ സംഖ്യയുടെയും ശരാശരി  
यदि 7 क्रमागत संख्याओं का औसत 203 है, तो सबसे छोटी और दूसरी संख्या का औसत क्या होगा? If average of 7 consecutive numbers is 203, then the average of the smallest and second number is

(A) 203	(B) 201	(C) 202.5	(D) 203.5
---------	---------	-----------	-----------

74. ഒരാൾ ഒരു പ്രത്യേക ജോലി 150 ദിവസം കൊണ്ട് ചെയ്യു തീർക്കാൻ വേണ്ടി ഏറ്റെടുക്കുന്നു. അദ്ദേഹം 200 പണിക്കാരെ ജോലിക്കായി നിയമിക്കുന്നു. എന്നാൽ 50 ദിവസം കൊണ്ട് ജോലിയുടെ കാൽഭാഗം മാത്രമേ ചെയ്യു തീർക്കുന്നുള്ളൂ എന്ന് കണ്ടെത്തുന്നു. ക്ഷേപ്യശ്ലീ പ്രകാരം ജോലി പൂർത്തിയാക്കാൻ അധികമായി എത്രപേരെ നിയമിക്കണം  
एक व्यक्ति 150 दिनों में एक निश्चित काम करने का बीड़ा उठाते हैं। वे 200 मजदूरों को काम पर रखते हैं। उन्हें पता चलता है कि 50 दिनों में काम का सिर्फ एक चौथाई हिस्सा ही पूरा हुआ है। काम को नियत समय पर पूरा करने के लिए उन्हें अतिरिक्त कितने मजदूरों को काम पर रखना चाहिए A man undertakes to do a certain work in 150 days. He employs 200 workers. He discovers that only a quarter of the work is done in 50 days. In order to complete the work on schedule, he must additionally employ

(A) 50 workers	(B) 100 workers	(C) 150 workers	(D) 200 workers
----------------	-----------------	-----------------	-----------------

75. 'A' യും 'B' യും ഒരു ജോലി 24 ദിവസം കൊണ്ട് ചെയ്യു തീർക്കും. 'A' യുടെ കാര്യക്ഷമത 'B' യുടെ ഇരട്ടിയാണെങ്കിൽ, 'A' ഒറ്റയ്ക്ക് എത്ര ദിവസം കൊണ്ട് അതേ ജോലി ചെയ്യു തീർക്കും? 'A' and 'B' can do a piece of work in 24 days. If efficiency of 'A' is double than 'B', then in how many days 'A' alone can do the same work?

(A) 30	(B) 36	(C) 60	(D) 72
--------	--------	--------	--------

76. ഒരു ടാപ്പ് ഒരു ജലസംഭരണി 8 മണിക്കൂർ കൊണ്ട് നിറയ്ക്കുകയും മറ്റൊരു ടാപ്പ് 16 മണിക്കൂർ കൊണ്ട് കാലിയാക്കുകയും ചെയ്യും. രണ്ട് ടാപ്പുകളും തുറന്നിട്ടുണ്ടെങ്കിൽ, ജലസംഭരണി നിറയ്ക്കാൻ എടുക്കുന്ന സമയം എത്രയാണ്  
एक नल एक टंकी को 8 घंटे में भर सकता है और दूसरा नल उसे 16 घंटे में खाली कर सकता है। यदि दोनों नल खुले हों, तो टंकी को भरने में लगने वाला समय होगा A tap can fill a cistern in 8 hours and another tap can empty it in 16 hours. If both the taps are open, the time taken to fill the tank will be

(A) 8 hrs	(B) 10 hrs	(C) 16 hrs	(D) 24 hrs
-----------	------------	------------	------------

77. സുരേഷ് കോർണർ പോയിന്റ് 'A' യിൽ നിന്ന് ചതുരാകൃതിയിലുള്ള ഒരു മൈതാനത്തിന്റെ അതിരുകളിലൂടെ സൈക്കിൾ ചവിട്ടാൻ തുടങ്ങി. അരമണിക്കൂറിനും ശേഷം, അയാൾ 'A' യ്ക്ക് എതിർവശത്തുള്ള കോർണർ പോയിന്റ് 'C' യിൽ എത്തി. അയാളുടെ വേഗത മണിക്കൂറിൽ 8 കി.മീ ആണെങ്കിൽ, മൈതാനത്തിന്റെ വിസ്തീർണ്ണം ചതുരശ്രകിലോമീറ്ററിൽ എത്രയാണ്? सुरेश ने कोने बिंदु 'ए' से एक वर्गाकार मैदान की सीमाओं के साथ साइकिल चलाना शुरू किया। आधे घंटे के बाद, वे कोने बिंदु 'सी' पर पहुँच गया, जो 'ए' के विकर्णतः विपरीत है। यदि उसकी गति 8 किमी प्रति घंटा थी, तो वर्ग किमी में मैदान का क्षेत्रफल है Suresh started cycling along the boundaries of a square field from corner point 'A'. After half an hour, he reached the corner point 'C', diagonally opposite to 'A'. If his speed was 8 km per hour, the area of the field in square km is

(A) 64	(B) 8
(C) 4	(D) Cannot be determined.

78. ഒരാൾ 100 കിലോമീറ്റർ ദൂരം മണിക്കൂറിൽ 40 കിലോമീറ്റർ വേഗതയിലുള്ള ബസിലും മണിക്കൂറിൽ 30 കിലോമീറ്റർ വേഗതയിലുള്ള സ്കൂട്ടറിലും ഭാഗികമായി സഞ്ചരിക്കുന്നു. മുഴുവൻ യാത്രയിലും അദ്ദേഹത്തിന്റെ ശരാശരി വേഗത മണിക്കൂറിൽ 32 കിലോമീറ്ററായിരുന്നു. എന്നാൽ ബസിൻ അദ്ദേഹം എത്ര ദൂരം സഞ്ചരിച്ചു? एक व्यक्ति 100 किमी की दूरी आंशिक रूप से बस से 40 किमी/घंटा की गति से और आंशिक रूप से स्कूटर से 30 किमी/घंटा की गति से तय करते हैं। पूरी यात्रा के दौरान उनकी औसत गति 32 किमी/घंटा थी। उन्होंने बस से कितनी दूरी तय की? A man covers a distance of 100 km partly by bus at 40 km/hr and partly by scooter at 30 km/hr. His average speed for the whole journey was 32 km/hr. How far did he go by bus?

(A) 20 km	(B) 25 km	(C) 30 km	(D) 40 km
-----------	-----------	-----------	-----------

79. ഒരു ദിവസം ഒരു പ്രത്യേക സമയത്ത് 168 സെന്റിമീറ്റർ ഉയരമുള്ള ഒരാളുടെ നിഴലിന്റെ നീളം 252 സെന്റിമീറ്റർ ആണെങ്കിൽ, അതേ സമയത്ത് 158 സെന്റിമീറ്റർ ഉയരമുള്ള ഒരാളുടെ നിഴലിന്റെ നീളം എത്രയായിരിക്കും? किसी दिन के किसी विशेष समय पर 168 सेमी लंबे व्यक्ति की छाया की लंबाई 252 सेमी है, उसी समय पर 158 सेमी लंबे व्यक्ति की छाया की लंबाई क्या होगी? The length of the shadow of a 168 cm tall person at a particular time of a day is 252 cm.

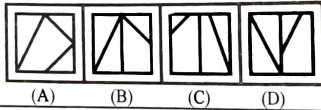
What will be the length of the shadow of a 158 cm tall person at the same time of the day?

- (A) 237 (B) 242 (C) 268 (D) 234

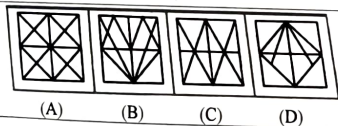
80. ദിവസം 7 മണിക്കൂർ ജോലി ചെയ്യുന്ന 20 പുരുഷന്മാർക്ക് 10 ദിവസം കൊണ്ട് ഒരു ജോലി തീർക്കാൻ കഴിയുമെങ്കിൽ, 8 മണിക്കൂർ ജോലി ചെയ്യുന്ന 15 പുരുഷന്മാർക്ക് എത്ര ദിവസം കൊണ്ട് അതേ ജോലി തീർക്കാൻ കഴിയും?  
यदि 20 आदमी 7 घंटे प्रतिदिन काम करके किसी काम को 10 दिन में पूरा कर सकते हैं, तो 15 आदमी 8 घंटे प्रतिदिन काम करके उसी काम को कितने दिन में पूरा करेंगे?  
If 20 men working 7 hours a day can do a piece of work in 10 days, in how many days will 15 men working for 8 hrs a day do the same piece of work?

- (A)  $15 \frac{5}{21}$  days (B)  $11 \frac{2}{3}$  days (C)  $6 \frac{9}{16}$  days (D)  $4 \frac{1}{5}$  days

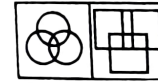
81. ചിത്രം (X)-ൽ നൽകിയിരിക്കുന്ന ഭാഗങ്ങൾ ഉപയോഗിച്ച് (A), (B), (C), (D) എന്നിവയിൽ ഏതൊക്കെ രൂപങ്ങൾ രൂപപ്പെടുത്താമെന്ന് കണ്ടെത്തുക?  
आकृति (X) में दिए गए टुकड़ों से ज्ञात कीजिए कि आकृति (A), (B), (C) और (D) में से कौन-सी आकृतियाँ बनाई जा सकती हैं?  
Find out which of the figures (A), (B), (C) and (D) can be formed from the pieces given in fig (X)?



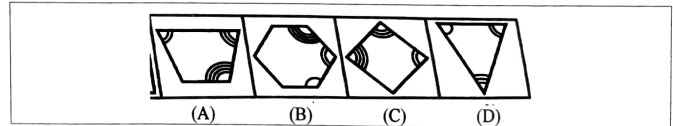
82. ചിത്രം (X) ന്റെ ഭാഗമായി ഉൾക്കൊള്ളുന്ന ഇതര ചിത്രം കണ്ടെത്തുക.  
वह वैकल्पिक आकृति ज्ञात कीजिए जिसमें आकृति (X) उसके भाग के रूप में हो  
Find out the alternative figure which contains fig (X) as its part



83. രണ്ട് ചോദ്യചിത്രങ്ങൾക്കിടയിൽ ചില പൊതു സ്വഭാവ സ്വവിശേഷതകളുണ്ട്. ചോദ്യചിത്രങ്ങൾ കാണിക്കുന്നതുപോലെ സമാനമായ സ്വഭാവസ്വവിശേഷതകൾ/സ്വവിശേഷതകൾ ഒരു ചിത്രം കാണിക്കുന്ന ഉത്തരചിത്രത്തിൽ നിന്ന് തിരഞ്ഞെടുക്കുക.  
दो समस्या आकृतियों में कुछ सामान्य विशेषताएँ/गुण हैं। उत्तर आकृतियों में से एक आकृति चुनें, जो समस्या आकृतियों द्वारा दर्शाई गई समान विशेषता/गुण दर्शाती हो  
There are certain common characteristics/properties between the two problem figures. Select a figure from amongst the Answer Figures which shows similar characteristic/properties as shown by the Problem figures

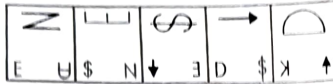


84. രണ്ട് ചോദ്യചിത്രങ്ങൾക്കിടയിൽ ചില പൊതു സ്വഭാവ സ്വവിശേഷതകളുണ്ട്. ചോദ്യചിത്രങ്ങൾ കാണിക്കുന്നതുപോലെ സമാനമായ സ്വഭാവസ്വവിശേഷതകൾ/സ്വവിശേഷതകൾ ഒരു ചിത്രം കാണിക്കുന്ന ഉത്തരചിത്രത്തിൽ നിന്ന് തിരഞ്ഞെടുക്കുക.  
दो समस्या आकृतियों में कुछ सामान्य विशेषताएँ/गुण हैं। उत्तर आकृतियों में से एक आकृति चुनें, जो समस्या आकृतियों द्वारा दर्शाई गई समान विशेषता/गुण दर्शाती हो  
There are certain common characteristics/properties between the two problem figures. Select a figure from amongst the Answer figure which shows similar characteristics/properties as shown by the problem figures



85. ഉത്തരചിത്രങ്ങളിൽ നിന്നും അഞ്ച് ചോദ്യചിത്രങ്ങളുടെ ശ്രേണി തുടരുന്ന ഒരു ചിത്രം തിരഞ്ഞെടുക്കുക.  
उत्तर आकृतियों में से एक आकृति का चयन करें जो पाँच समस्या आकृतियों द्वारा स्थापित श्रृंखला को जारी रखेगी  
Select a figure from amongst the Answer Figures which will continue the same series as established by the five problem figures


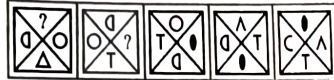




(A) (B) (C) (D)

86. തന്നിരിക്കുന്ന ഉത്തരചിത്രങ്ങളിൽ നിന്നും തന്നെ ചോദ്യചിത്രങ്ങളുടെ ശ്രേണി തുടരുന്ന ഒരു ചിത്രം തിരഞ്ഞെടുക്കുക.  
उत्तर आकृतियों में से एक आकृति का चयन करें जो पाँच समस्या आकृतियों द्वारा स्थापित श्रृंखला को जारी रखेगी

Select a figure from amongst the Answer Figures which will continue the same series as established by the five problem figures



(A) (B) (C) (D)

87. ചിത്രത്തിലെ ത്രികോണങ്ങളുടെ എണ്ണം കണ്ടെത്തുക.  
आकृति में त्रिकोणों की संख्या ज्ञात कीजिए  
Find the number of triangles in the figure



(A) 18 (B) 20 (C) 24 (D) 27

88. ചിത്രത്തിലെ ത്രികോണങ്ങളുടെ എണ്ണം കണ്ടെത്തുക.  
आकृति में त्रिकोणों की संख्या ज्ञात कीजिए  
Find the number of triangles in the figure



(A) 11 (B) 13 (C) 15 (D) 17

89. തന്നിരിക്കുന്ന കോമ്പിരസർക്കിൾ കണ്ണാടി പ്രതിബിംബങ്ങൾ ഏറ്റവും സാമ്യമുള്ള ഒന്ന് തിരഞ്ഞെടുക്കുക.  
उस विकल्प का चयन करें जो दिए गए संयोजन की दर्पण छवि से सबसे अधिक मिलना जुलना हो  
Choose the alternative which most closely resembles the mirror-image of the given combination

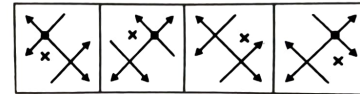
TARAIN1014A

(A) A1010111A1A1 (B) A1010111A1A1  
(C) A10101A1A1A1 (D) A1010111A1A1

90. നാല് ഉത്തരങ്ങളിൽ നിന്ന് ചിത്രം (x) ന്റെ ശരിയായ കണ്ണാടി പ്രതിബിംബം തിരഞ്ഞെടുക്കുക.  
चार विकल्पों में से आकृति (x) का सही दर्पण प्रतिबिंब चुनिए  
Choose the correct mirror- image of the Fig (x) from amongst the four alternatives.

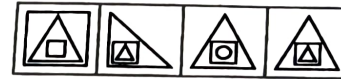



(X)



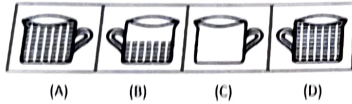

(A) (B) (C) (D)

91. ഫിഗർ മാട്രിക്സിനെ പൂർത്തിയാക്കുന്ന ഉത്തരം കണ്ടെത്തുക.  
ज्ञात करें कि कौन सी उत्तर आकृति, आकृति मैट्रिक्स को पूरा करती है?  
Find out which of the answer figures completes the figure matrix?



(A) (B) (C) (D)

92. ചിത്രം (X) ന്റെ പൂർത്തീകരണമെന്ന ഉത്തരം കണ്ടെത്തുക.  
 Find out which of the answer figures completes the figure matrix?



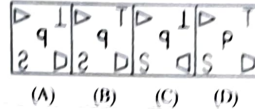
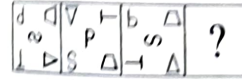
93. ചിത്രം (X) ന്റെ ശരിയായ ജലചിത്രം തിരഞ്ഞെടുക്കുക.  
 Choose the correct water-image of the Fig (X) from amongst the four alternatives (A), (B), (C) and (D) given along with it



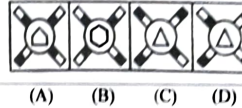
94. ചിത്രം (X) ന്റെ ശരിയായ ജലചിത്രം തിരഞ്ഞെടുക്കുക.  
 Choose the correct water-image of the Fig (X) from amongst the four alternatives (A), (B), (C) and (D) given along with it



95. ഉത്തരം ചിത്രത്തിൽ നിന്ന് ചേർക്കേണ്ടതതിന് പകരം തിരഞ്ഞെടുക്കുക.  
 Select a suitable from the answer figure that would replace the question mark (?)



96. ഉത്തരം ചിത്രത്തിൽ നിന്ന് ചേർക്കേണ്ടതതിന് പകരം തിരഞ്ഞെടുക്കുക.  
 Select a suitable from the answer figure that would replace the question mark (?)

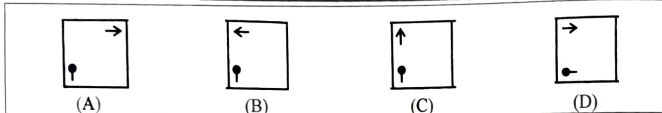
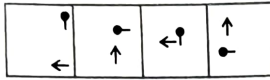


97. നാല് പ്രശ്ന സംഖ്യകൾ ക്രമത്തിലുള്ളതും അതേ ശ്രേണി തുടരുന്ന അനുയോജ്യമായ ഒരു ചിത്രം തിരഞ്ഞെടുക്കുക.  
 Select a figure from amongst the Answer Figures which will continue the series established by the four problem figures.

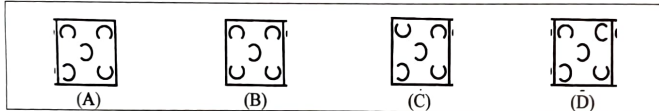





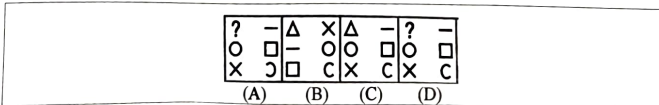
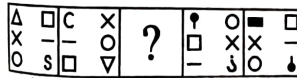
98. നാല് പ്രശ്ന സംഖ്യകൾ കൊടുത്തിരിക്കുന്നു അതേ ശ്രേണി തുടരുന്ന അനുയോജ്യമായ ഒരു ചിത്രം തിരഞ്ഞെടുക്കുക  
 उत्तर आकृतियों में से एक आकृति का चयन करें जो चार समस्या आकृतियों द्वारा स्थापित श्रृंखला को जारी रखेगी  
 Select a figure from amongst the Answer Figures which will continue the series established by the four problem figures



99. ഉത്തരങ്ങളിൽ നിന്ന് ചോദ്യചിഹ്നത്തിന് പകരമായി അനുയോജ്യമായ ചിത്രം തിരഞ്ഞെടുക്കുക. അങ്ങനെ പ്രശ്ന സംഖ്യകളെ ക്രമത്തിലാക്കി ഒരു ശ്രേണി രൂപപ്പെടുത്തുക.  
 उत्तर सेट से उपयुक्त आकृति का चयन करें जो इस प्रश्न चिह्न को प्रतिस्थापित करेगी ताकि क्रम में रखी गई समस्या आकृतियों द्वारा एक श्रृंखला बनाई जा सके  
 Select suitable figure from the Answer Set which will substitute this question mark so that a series is formed by the Problem figures taken in order



100. ഉത്തരങ്ങളിൽ നിന്ന് ചോദ്യചിഹ്നത്തിന് പകരമായി അനുയോജ്യമായ ചിത്രം തിരഞ്ഞെടുക്കുക. അങ്ങനെ പ്രശ്ന സംഖ്യകളെ ക്രമത്തിലാക്കി ഒരു ശ്രേണി രൂപപ്പെടുത്തുക.  
 उत्तर सेट से उपयुक्त आकृति का चयन करें जो इस प्रश्न चिह्न को प्रतिस्थापित करेगी ताकि क्रम में रखी गई समस्या आकृतियों द्वारा एक श्रृंखला बनाई जा सके  
 Select suitable figure from the Answer Set which will substitute this question mark so that a series is formed by the Problem figures taken in order



\*\*\*\*\*