

भारतीय रक्षा विभाग
DEPARTMENT OF DEFENSE
LDCE for P.A.S.A-2023 (Paper-I)
DO NOT OPEN THIS BOOKLET UNTIL TOLD TO DO SO
इस पुस्तिका को खोलने तक इसे खोलने पर ही खोलें

समय: 2 घंटे
Time Allowed: - 2 Hours

संख्या: 1506094
Roll No.

वस्तुनिष्ठ प्रश्नों की कुल संख्या: 100
Total No. of Objective Questions: 100

अधिकतम अंक: 100
Maximum Marks: 100

अभ्यर्थी का नाम: THATAVARTHI SANTOSHIRUPA

Name of the candidate (In capital letters):

अभ्यर्थी के हस्ताक्षर: J. Santoshirupa

Candidates' Signature

कक्षा निरीक्षक के हस्ताक्षर:

Invigilators' Signature

इस पुस्तिका पर कुछ भी लिखने से नहीं
निषेधित निर्देश ज्ञानपूर्वक हैं

READ THE FOLLOWING INSTRUCTIONS CAREFULLY
BEFORE WRITING ANYTHING ON THIS BOOKLET

1.	Paper-I contains 100 objective questions. Before commencing to answer, check that the question booklet has all the 100 objective questions. Further check that you have been distributed correct booklet. If there is any shortcoming, intimate the same to your room invigilator and get it corrected. No complaint in this regard shall be entertained at later stage.	1.	पेपर-I में 100 वस्तुनिष्ठ प्रश्न हैं। उत्तर लिखना शुरू करने से पहले, जांचें कि क्या पुस्तिका में सभी 100 वस्तुनिष्ठ प्रश्न हैं। आगे की जांच करें कि आपको सही पुस्तिका वितरित की गई है। यदि कोई कमी है, तो अपने कमरे के परीक्षक को सूचित करें और इसे ठीक कराएं। इस संबंध में किसी भी शिकायत पर बाद में कोई विचार नहीं किया जाएगा।
2.	This is an objective type test in which each objective question is followed by four options (A) to (D). Your task is to choose the correct/best option and mark your response in the OMR Answer Sheet only as per the instructions given.	2.	यह एक वस्तुनिष्ठ प्रकार की परीक्षा है जिसमें प्रत्येक वस्तुनिष्ठ प्रश्न के चार विकल्प (A) से (D) दिए हैं। आपका कार्य सही / सर्वोत्तम विकल्प चुनना है और केवल दिए गए निर्देशों के अनुसार ओएमआर उत्तर पत्रक में अपनी प्रतिक्रिया को चिह्नित करना है।
3.	Use Blue / Black Ball Point Pen for filling boxes on the OMR Answer Sheet. The ovals on the OMR Answer Sheet are to be completely filled by Blue / Black Ball Point Pen.	3.	OMR उत्तर पुस्तिका पर बॉक्स भरने के लिए नीले / काले बॉल प्वाइंट पेन का उपयोग करें। ओएमआर उत्तर पत्रक पर अंडाकार पूरी तरह से नीले / काले बॉलप्वाइंट पेन द्वारा भरे जाने हैं।
4.	DO NOT scribble, do not rough work or do not make any stray marks on the Answer Sheet. DO NOT wrinkle or fold or staple the OMR sheet.	4.	उत्तर पत्रक पर न तो रफ कार्य करें और न ही किसी प्रकार का निशान आदि लगाएं या इसे मोड़ें या स्टेपल करें।
5.	Use of Calculators, Slide rules, Mobiles, calculator watches or any such devices and / any other study / reference material is NOT allowed inside the examination hall. Do not bring these articles to the examination hall.	5.	कैल्कुलेटर, स्लाइडरूल, मोबाइल, कैल्कुलेटर घड़ियाँ या इस प्रकार की अन्य कोई भी युक्ति एवं किसी भी अध्ययन / संदर्भ सामग्री आदि का प्रयोग परीक्षा कक्ष में वर्जित है।
6.	Rough Work can be done in the blank space provided in the Question Booklet, not on the OMR Answer Sheet. No other paper will be allowed/provided for rough work.	6.	रफ कार्य प्रश्न पुस्तिका में किसी भी खाली स्थान में किया जाना चाहिए, ओ.एम.आर. उत्तर पत्रक पर कोई कार्य न करें। किसी अन्य कागज पर इसे करने की अनुमति नहीं है।
7.	The question booklet will be in four series (A, B, C and D). You must write correct question booklet series on your OMR sheet. The candidate will be solely responsible to quote the correct question booklet series on the OMR sheet without which OMR sheet will not be evaluated under any circumstances.	7.	प्रश्न पुस्तिका (ए, बी, सी एवं डी) चार शृंखलाओं में होगी। आपको ओ.एम.आर. उत्तर पत्रिका पर सही प्रश्न पुस्तिका शृंखला लिखनी है। ओ.एम.आर. में सही प्रश्न पुस्तिका शृंखला भरने का अभ्यर्थी स्वयं जिम्मेदार होगा, इसके बिना ओ.एम.आर. का किसी भी परिस्थिति में मूल्यांकन नहीं किया जाएगा।
8.	Return the original OMR Answer Sheet to the Invigilator on completion of the Test. Do not take this Question Booklet or any part thereof or OMR Answer Sheet outside the Examination Hall during the course of the examination. Doing so is a punishable offence.	8.	परीक्षा की समाप्ति के पश्चात अपनी उत्तर पुस्तिका की मूलप्रति पर्यवेक्षक को वापस कर दें। परीक्षा के दौरान, प्रश्न पुस्तिका या इसके किसी भाग अथवा ओएमआर उत्तर पुस्तिका को परीक्षा कक्ष के बाहर ले जाना वर्जित है। ऐसा करना दंडनीय अपराध है।
9.	Take care that you mark only one answer for each question. If more than one answer is given by you for any question, the same will not be evaluated. Cutting/overwriting the answers is not allowed. Further, question paper is in Hindi, English and local language. In case of any variation in translated Hindi & local language version, English version will be taken as final for evaluation purposes.	9.	हर एक प्रश्न के लिए केवल एक ही उत्तर इंगित करें। एक से अधिक उत्तर देने पर प्रश्न का मूल्यांकन नहीं किया जाएगा। उत्तर में कोई भी कटिंग या ओवरराइटिंग मान्य नहीं होगी। प्रश्न पत्र हिन्दी, अंग्रेजी एवं स्थानीय भाषा में हैं। अनुवादित हिन्दी एवं स्थानीय भाषा संस्करण में किसी भी प्रकार की भिन्नता होने पर मूल्यांकन के लिए अंग्रेजी संस्करण को अंतिम माना जाएगा।
10.	HOW TO ANSWER THE QUESTION:- Please follow instructions given on the OMR Answer Sheet	10.	प्रश्नों का उत्तर कैसे दें:- कृपया ओ.एम.आर. उत्तर पत्रिका पर दिए गए अनुदेशों का पालन करें।

PART- A/ भाग- A

1	Which chatbot assists users during booking in the Dak Sewa app?	1	डाक सेवा ऐप में बुकिंग के दौरान कौन सा चैटबॉट उपयोगकर्ताओं की सहायता करता है?
	A. Megha B. Personal Assistant C. Post Bot D. Mail Mitra		A. मेघा B. पर्सनल असिस्टेंट C. पोस्ट बॉट D. मेल मित्र
2	The new service under Booking Solution available for unregistered items is?	2	बुकिंग समाधान के अंतर्गत अपंजीकृत वस्तुओं के लिए उपलब्ध नई सेवा क्या है?
	A. Delivery confirmation service B. Proof of Delivery Service C. Premium Delivery Service D. Unregistered Track Service		A. डिलीवरी पुष्टिकरण सेवा B. डिलीवरी प्रमाण सेवा C. प्रीमियम डिलीवरी सेवा D. अपंजीकृत ट्रैक सेवा
3	In the term "NSP" (as in NSP 1, NSP 2) under the NI (Network Integrator) category, what does 'S' stand for?	3	एनआई (नेटवर्क इंटीग्रेटर) श्रेणी के अंतर्गत "एनएसपी" (जैसे एनएसपी 1, एनएसपी 2) शब्द में, 'एस' का क्या अर्थ है?
	A. System B. Software C. Service D. Solution		A. सिस्टम B. सॉफ्टवेयर C. सेवा D. समाधान
4	The term "Blue Field Project" in IT 2.0 implies a combination of which two types of project approaches?	4	आईटी 2.0 में "ब्लू फील्ड प्रोजेक्ट" शब्द का तात्पर्य किन दो प्रकार के प्रोजेक्ट दृष्टिकोणों के संयोजन से है?
	A. Old and New B. Existing and Future C. Green Field and Brown Field D. Simple and Complex		A. पुराना और नया B. मौजूदा और भविष्य C. ग्रीन फील्ड और ब्राउन फील्ड D. सरल और जटिल
5	The phase where software is tested in the real world by the intended audience or business representatives is known as:	5	वह चरण जहाँ सॉफ्टवेयर का वास्तविक दुनिया में लक्षित दर्शकों या व्यावसायिक प्रतिनिधियों द्वारा परीक्षण किया जाता है, उसे इस प्रकार जाना जाता है:
	A. System integration testing B. Unit testing C. User Acceptance testing D. Performance testing		A. सिस्टम एकीकरण परीक्षण B. इकाई परीक्षण C. उपयोगकर्ता स्वीकृति परीक्षण D. प्रदर्शन परीक्षण
6	"TNF" in Network Integration under IT Modernization Project 2012 refers to:	6	आईटी आधुनिकीकरण परियोजना 2012 के अंतर्गत नेटवर्क एकीकरण में "TNF" का तात्पर्य है:
	A. Technically Now Feasible B. Technically Not Feasible C. Technically Not Functional D. Terminal Not Feasible		A. तकनीकी रूप से अब संभव B. तकनीकी रूप से संभव नहीं C. तकनीकी रूप से कार्यात्मक नहीं D. टर्मिनल संभव नहीं

7	What is the rate of discount on speed post booking for walk in customers who bring daily revenue of Rs 75,000/-?	7	75,000/- रुपये की दैनिक आय लाने वाले वॉक-इन ग्राहकों के लिए स्पीड पोस्ट बुकिंग पर छूट की दर क्या है?
	A. 2% B. 5% C. 10% D. 15%		A. 2% B. 5% C. 10% D. 15%
8	Who prepares the monthly BNPL bill for every Calendar Month?	8	प्रत्येक कैलेंडर माह के लिए मासिक बीएनपीएल बिल कौन तैयार करता है?
	A. Superintendent of Post offices B. Office of Posting C. Head Post office D. Office of Delivery		A. डाक अधीक्षक B. पोस्टिंग कार्यालय C. प्रधान डाकघर D. वितरण कार्यालय
9	Maximum weight limit of (i) Domestic Speed Post article (ii) International Speed Post article is:	9	(i) घरेलू स्पीड पोस्ट डाक (ii) अंतर्राष्ट्रीय स्पीड पोस्ट डाक के सन्दर्भ में अधिकतम वजन सीमा है
	A. (i) 20 Kg (ii) 20 Kg B. (i) 30 Kg (ii) 30 Kg C. (i) 35 Kg (ii) 35 Kg D. (i) 20 Kg (ii) 35 Kg		A. (i) 20 किग्रा (ii) 20 किग्रा B. (i) 30 किग्रा (ii) 30 किग्रा C. (i) 35 किग्रा (ii) 35 किग्रा D. (i) 20 किग्रा (ii) 35 किग्रा
10	What is the compensation for delay in delivery of International Speed Post article?	10	अंतर्राष्ट्रीय स्पीड पोस्ट सामग्री की डिलीवरी में देरी के लिए क्या मुआवज़ा है?
	A. 2% of the Postage charges for the delay of more than 5 days (Excluding Holidays) from the published norms B. Speed Post charges will be paid C. Double the Speed Post charges or Rs. 1000 whichever is less D. 5% of the postage charges for the delay of more than 5 days (Excluding Holidays) from the published norms		A. प्रकाशित मानदंडों से 5 दिन (छुट्टियों को छोड़कर) से अधिक की देरी के लिए डाक शुल्क का 2% देय होगा। B. स्पीड पोस्ट शुल्क का भुगतान किया जाएगा। C. स्पीड पोस्ट शुल्क का दोगुना या ₹1000, जो भी कम हो। D. प्रकाशित मानदंडों से 5 दिन (छुट्टियों को छोड़कर) से अधिक की देरी के लिए डाक शुल्क का 5% देय होगा।
11	Which of the following statements are incorrect w.r.t. meaning of 'Local' in Local Delivery under Service Standards for Delivery of Speed Post:	11	स्पीड पोस्ट की डिलीवरी के लिए सेवा मानकों के तहत स्थानीय डिलीवरी के संबंध में, 'स्थानीय' के अर्थ के संदर्भ में निम्नलिखित में से कौन सा कथन गलत है:
	A. Articles booked and to be delivered within identified PIN codes-for Metro Cities B. Articles booked and to be delivered within Municipality limit-for cities other than Metro cities		A. निर्धारित पिन कोड के भीतर बुक की गई और वितरित की जाने वाली डाक- मेट्रो शहरों के लिए B. निर्धारित पिन कोड के भीतर बुक की गई और वितरित की जाने वाली डाक- मेट्रो शहरों के अलावा अन्य शहरों के लिए

	C. Articles booked and to be delivered within the same PIN code delivery jurisdiction-for Small Towns (Kasbas) or Mufussil areas having no defined town delivery area D. None of the above		C. निर्धारित पिन कोड वितरण क्षेत्राधिकार के भीतर बुक की गई और वितरित की जाने वाली डाक- छोटे शहरों (कस्बा) या मुफस्सिल क्षेत्रों के लिए जिनका कोई निर्धारित वितरण क्षेत्र नहीं है D. उपरोक्त में से कोई नहीं
12	Which of the following types of literature is not allowed under Gyan Post?	12	ज्ञान पोस्ट के अंतर्गत निम्नलिखित में से किस प्रकार के साहित्य की अनुमति नहीं है?
	A. Books on religious topics B. monthly published newsletters C. competitive exam preparation books D. Textbooks by universities		A. धार्मिक विषयों पर पुस्तकें B. मासिक प्रकाशित समाचार पत्र C. प्रतियोगी परीक्षा की तैयारी के लिए पुस्तकें D. विश्वविद्यालयों द्वारा पाठ्यपुस्तकें
13	Under RPLI non-medical scheme the age at entry of proponent should not exceed	13	आरपीएलआई गैर-चिकित्सा योजना के अंतर्गत प्रस्तावक की प्रवेश आयु इससे अधिक नहीं होनी चाहिए
	A. 35 years B. 40 years C. 45 years D. No limit		A. 35 वर्ष B. 40 वर्ष C. 45 वर्ष D. कोई सीमा नहीं
14	From the following, what type of items are typically sent using Magazine Post?	14	निम्नलिखित में से, मैगजीन पोस्ट द्वारा आमतौर पर किस प्रकार की वस्तुएँ भेजी जाती हैं?
	A. Letters and postcards B. Periodicals and newspapers C. Parcels and packages D. Money orders and financial instruments		A. पत्र और पोस्टकार्ड B. पत्रिकाएँ और समाचार पत्र C. पार्सल और पैकेज D. मनीऑर्डर और वित्तीय प्रपत्र
15	A speed post bar code has how many characters?	15	स्पीड पोस्ट के बार कोड में कितने कैरेक्टर्स होते हैं?
	A. 11 B. 9 C. 12 D. 13		A. 11 B. 9 C. 12 D. 13
16	What is the fee for transfer of Monthly Income Scheme Account from one post office to another post office?	16	मासिक आय योजना खाते को एक डाकघर से दूसरे डाकघर में स्थानांतरित करने के लिए शुल्क क्या है?
	A. Rs.50 + GST B. Rs.100 + GST C. Rs.200 + GST D. Rs.500 + GST		A. 50 रुपये + जीएसटी B. 100 रुपये + जीएसटी C. 200 रुपये + जीएसटी D. 500 रुपये + जीएसटी
17	This record serves as a record of the clerks actually at work on any given day	17	यह रिकॉर्ड किसी भी दिन वास्तव में काम पर मौजूद क्लर्कों का रिकॉर्ड होता है
	A. Order book B. Nominal Roll C. Memo of Distribution D. Postmaster Order book		A. ऑर्डर बुक B. नॉमिनल रोल C. वितरण ज्ञापन D. पोस्टमास्टर ऑर्डर बुक

18	The preservation period for Nominal Roll is:	18	नॉमिनल रोल के लिए संरक्षण अवधि है:
	A. One year B. Three years C. Ten years D. Permanent		A. एक वर्ष B. तीन वर्ष C. दस वर्ष D. स्थायी
19	In Sub Offices, where do the postman acknowledge receipt of the money made over to him for remittance into Bank?	19	उप-डाकघरों में, डाकिया बैंक में प्रेषण हेतु उसे सौंपी गई धनराशि की प्राप्ति की पुष्टि कहाँ करता है?
	A. On the SO Account B. On the reverse of the counterfoils of Bank vouchers C. On the obverse of the counterfoils of Bank vouchers D. On the SO Daily Account		A. एसओ खाते पर B. बैंक वाउचर के काउंटरफॉइल के पीछे C. बैंक वाउचर के काउंटरफॉइल के अग्रभाग पर D. एसओ दैनिक खाते पर
20	What should be done if an SSA account is opened by grandparents (non-legal guardian)?	20	यदि दादा-दादी (गैर-कानूनी अभिभावक) द्वारा SSA खाता खोला जाता है, तो क्या किया जाना चाहिए?
	A. Close account immediately B. Transfer guardianship to natural/ legal guardian C. Freeze account D. Charge penalty		A. खाता तुरंत बंद करें B. संरक्षकता प्राकृतिक/कानूनी अभिभावक को हस्तांतरित करें C. खाता फ्रीज करें D. जुर्माना वसूलें
21	What is the new threshold for TDS deduction under Section 194H as per Finance Act 2025?	21	वित्त अधिनियम 2025 के अनुसार धारा 194H के तहत टीडीएस कटौती की नई सीमा क्या है?
	A. Rs. 10,000 B. Rs. 15,000 C. Rs. 20,000 D. Rs. 5,000		A. 10,000 रुपये B. 15,000 रुपये C. 20,000 रुपये D. 5,000 रुपये
22	Who is the competent Authority to permit officials of the Mail Office to enter the mail van of a section to help in loading or unloading mails, where considered necessary?	22	डाक कार्यालय के कर्मचारियों को, जहाँ आवश्यक समझा जाए, डाक लादने या उतारने में सहायता के लिए किसी अनुभाग के डाक वाहन में प्रवेश करने की अनुमति देने वाला सक्षम प्राधिकारी कौन है?
	A. Postmaster General B. Superintendent of RMS C. Record Officer D. Head Sorting Assistant		A. पोस्टमास्टर जनरल B. आरएमएस अधीक्षक C. अभिलेख अधिकारी D. प्रधान छंटार्ह सहायक
23	The form M-42 for Transit Sections and M-43 for Mail Offices is used _____.	23	ट्रांजिट अनुभागों के लिए फॉर्म एम-42 और मेल कार्यालयों के लिए एम-43 का उपयोग _____ किया जाता है।
	A. To prepare error report B. To prepare mail abstract C. To prepare report of missent bags D. To prepare metal token stock		A. त्रुटि रिपोर्ट तैयार करने के लिए B. मेल सार तैयार करने के लिए C. गुम हुए बैगों की रिपोर्ट तैयार करने के लिए D. धातु टोकन स्टॉक तैयार करने के लिए

24	The Head Sorting Assistant/Mail Guard of a set or a section or a Mail Office, which is exempted from Record Office attendance, should send the work papers of the set to the Record Office in _____.	24	एक सेक्शन या सेट या मेल कार्यालय का हेडसॉर्टिंग असिस्टेंट/मेल गार्ड, जिसे अभिलेख कार्यालय में उपस्थिति से छूट प्राप्त है, सेट के कार्य पत्रों को रिकॉर्ड कार्यालय में _____ भेजना चाहिए।
	A. a closed bag, duly invoiced in the mail list B. a blue bag only, duly invoiced in the mail list C. an iron or wooden box D. on monthly basis		A. एक बंद बैग में, मेल सूची में विधिवत दर्ज करके B. केवल एक नीले बैग में, मेल सूची में विधिवत रूप से दर्ज करके, C. लोहे या लकड़ी के बक्से में D. मासिक आधार पर
25	The delivery of an article in the country of destination:	25	गंतव्य देश में किसी वस्तु की डिलीवरी:
	A. Varies from country to country B. Uniform all over C. As desired by the sender D. None of the above		A. देश-दर-देश भिन्न होती है B. सभी जगह एक समान C. प्रेषक की इच्छानुसार D. उपरोक्त में से कोई नहीं
26	How to treat articles addressed in Indian Language intended for despatch abroad?	26	विदेशों में भेजने के लिए भारतीय भाषा में संबोधित डाक के साथ क्या कार्रवाई करें?
	A. No action required B. Returned to sender for transcription C. Transcription in French should be added D. Transcription in English should be added		A. कोई कार्रवाई आवश्यक नहीं B. ट्रांसक्रिप्शन के लिए प्रेषक को लौटा दिया जाना है C. फ्रेंच में ट्रांसक्रिप्शन जोड़ा जाना चाहिए D. अंग्रेजी में ट्रांसक्रिप्शन जोड़ा जाना चाहिए
27	Under which postal circle does Sikkim falls?	27	सिक्किम किस डाक परिमंडल के अंतर्गत आता है?
	A. North East B. Assam C. West Bengal D. Bihar		A. नॉर्थ ईस्ट B. असम C. पश्चिम बंगाल D. बिहार
28	Who will fix the working hours of Night Post Offices?	28	रात्रिकालीन डाकघरों के कार्य समय का निर्धारण कौन करेगा?
	A. Divisional Head B. Regional Head C. Head of the Circle D. Regional Director		A. मंडल प्रमुख B. क्षेत्रीय प्रमुख C. परिमंडलीय प्रमुख D. क्षेत्रीय निदेशक
29	Which of the following service is not available in a Mobile Post Office?	29	निम्नलिखित में से कौन सी सेवा मोबाइल डाकघर में उपलब्ध नहीं है?
	A. Sale of stamp and stationery B. Booking of registered articles C. Accepting unregistered article D. Collection of PLI premium		A. डाक टिकट और स्टेशनरी की बिक्री B. पंजीकृत वस्तुओं की बुकिंग C. अपंजीकृत वस्तुओं को स्वीकार करना D. पीएलआई प्रीमियम का संग्रह

30	What is the purpose of notifying business hours at Post Offices and RMS Offices?	30	डाकघरों और आरएमएस कार्यालयों में कार्य समय अधिसूचित करने का उद्देश्य क्या है?
	<p>A. To inform the public about upcoming holidays</p> <p>B. To indicate when the Post Office counters close</p> <p>C. To indicate the hours during which business is transacted and the times at which mails are delivered and dispatched</p> <p>D. To announce special promotions</p>		<p>A. आगामी छुट्टियों के बारे में जनता को सूचित करना</p> <p>B. डाकघर काउंटर बंद होने का समय बताना</p> <p>C. कार्य के समय और डाक वितरण और प्रेषण के समय को बताना</p> <p>D. विशेष प्रचारों की घोषणा करना</p>
31	Who authorizes certain post offices to realize the postage charges in cash from firms or other persons who post a very large number of unregistered packets?	31	कौन कुछ डाकघरों को उन फर्मों या अन्य व्यक्तियों से नकद में डाक शुल्क वसूलने के लिए अधिकृत करता है जो बहुत बड़ी संख्या में अपंजीकृत पैकेट पोस्ट करते हैं?
	<p>A. Secretary Posts</p> <p>B. DG Posts</p> <p>C. ADG Posts</p> <p>D. Head of the Circle</p>		<p>A. डाक सचिव</p> <p>B. डाक महानिदेशक</p> <p>C. अतिरिक्त डाक महानिदेशक</p> <p>D. परिमंडलीय प्रमुख</p>
32	What is the consequence of using a stamp that has already been used for postage, with intent to cause loss to the Central Government?	32	केन्द्र सरकार को हानि पहुंचाने के इरादे से, पहले से डाक के लिए इस्तेमाल किए जा चुके स्टाम्प का उपयोग करने का क्या परिणाम होगा?
	<p>A. Fine</p> <p>B. Offence under the Indian Penal Code</p> <p>C. Warning</p> <p>D. None of these</p>		<p>A. जुर्माना</p> <p>B. भारतीय दंड संहिता के तहत अपराध</p> <p>C. चेतावनी</p> <p>D. इनमें से कोई नहीं</p>
33	How many date stamps are required on every letter, packet or parcel according to the general rules as to Posting?	33	डाक भेजने के सामान्य नियमों के अनुसार प्रत्येक पत्र, पैकेट या पार्सल पर तारीख की कितनी मोहरें आवश्यक हैं?
	<p>A. At least one</p> <p>B. At least four</p> <p>C. At least two</p> <p>D. At least three</p>		<p>A. कम से कम एक</p> <p>B. कम से कम चार</p> <p>C. कम से कम दो</p> <p>D. कम से कम तीन</p>
34	Which type of notes are NOT included in the expression "Currency Notes" in accordance to the rules laid down for the posting of coins?	34	सिक्कों की पोस्टिंग के लिए निर्धारित नियमों के अनुसार किस प्रकार के नोट "करेंसी नोट" में शामिल नहीं हैं?
	<p>A. Bank Notes</p> <p>B. Defaced notes</p> <p>C. Foreign currency notes</p> <p>D. Old notes</p>		<p>A. बैंक नोट</p> <p>B. विकृत नोट</p> <p>C. विदेशी मुद्रा नोट</p> <p>D. पुराने नोट</p>

35	How much redirection fee will be charged on inland parcels addressed to troops, when such parcels redirected within India?	35	सैनिकों को संबोधित अंतर्देशीय पार्सल पर, जब ऐसे पार्सल भारत के भीतर पुनर्निर्देशित किए जाते हैं, कितना पुनर्निर्देशन शुल्क लिया जाएगा?
	A. Free B. Half C. Double D. As per distance and weight		A. निःशुल्क B. आधा C. दोगुना D. दूरी और वजन के अनुसार
36	Who has the right to prescribe a lower limit of weight for book packets for and from any particular post office or offices?	36	किसी विशेष डाकघर या कार्यालयों के लिए और वहाँ से भेजे जाने वाले पुस्तक पैकेटों के वजन की न्यूनतम सीमा निर्धारित करने का अधिकार किसे है?
	A. Director-General B. CPMG C. Director D. SSPOs/ SPOs		A. महानिदेशक B. सीपीएमजी C. निदेशक D. प्रवर डाक अधीक्षक/ डाक अधीक्षक
37	Under special arrangements, which countries have more favorable conditions laid down for the exchange of postal articles?	37	विशेष व्यवस्था के तहत, किन देशों में डाक वस्तुओं के आदान-प्रदान के लिए अधिक अनुकूल परिस्थितियाँ निर्धारित की गई हैं?
	A. India and Pakistan B. Afghanistan and Iran C. Bhutan, Bangladesh, and Nepal D. China and Japan		A. भारत और पाकिस्तान B. अफ़गानिस्तान और ईरान C. भूटान, बांग्लादेश और नेपाल D. चीन और जापान
38	As mentioned in Post office Guide – II, in what language should the Advice of Delivery form be filled for registered articles?	38	जैसा कि डाकघर गाइड-II में उल्लेख किया गया है, पंजीकृत वस्तुओं के लिए डिलीवरी की सूचना फार्म किस भाषा में भरा जाना चाहिए?
	A. Roman characters B. Arabic script C. Chinese characters D. Devanagari script		A. रोमन अक्षर B. अरबी लिपि C. चीनी अक्षर D. देवनागरी लिपि
39	What is the primary liability of the Post Office according to the Universal Postal Convention?	39	यूनिवर्सल पोस्टल कन्वेंशन के अनुसार डाकघर का प्राथमिक दायित्व क्या है?
	A. Loss of Registered Articles B. Delay in delivery C. Damage to packages D. Incorrect address handling		A. पंजीकृत वस्तुओं का खोना B. डिलीवरी में देरी C. पैकेजों को नुकसान D. गलत पते पर हैंडलिंग

40	What is the purpose of sending an advice of non-delivery in case of a foreign parcel?	40	विदेशी पार्सल के मामले में डिलीवरी न होने की सूचना भेजने का उद्देश्य क्या है?
	<p>A. To enable the recipient to give fresh instructions regarding the parcel</p> <p>B. To inform the sender about the non-delivery</p> <p>C. To request additional charges for delivery</p> <p>D. To expedite the delivery process</p>		<p>A. प्राप्तकर्ता को पार्सल के बारे में नए निर्देश देने में सक्षम बनाना</p> <p>B. प्रेषक को डिलीवरी न होने की सूचना देना</p> <p>C. डिलीवरी के लिए अतिरिक्त शुल्क का अनुरोध करना</p> <p>D. डिलीवरी प्रक्रिया में तेज़ी लाना</p>
41	As per the "Prohibitions and Restrictions" described in the Post office guide part - II which type of articles should not contain communications addressed to persons other than the addressee or persons living with him?	41	पोस्ट ऑफिस गाइड भाग - II में वर्णित "निषेध और प्रतिबंध" के अनुसार किस प्रकार के डाक में प्राप्तकर्ता या उसके साथ रहने वाले व्यक्तियों के अलावा अन्य व्यक्तियों को संबोधित पत्र नहीं होने चाहिए?
	<p>A. Letters</p> <p>B. Printed papers</p> <p>C. Small packets</p> <p>D. Parcels</p>		<p>A. पत्र</p> <p>B. मुद्रित कागज़</p> <p>C. छोटे पैकेट</p> <p>D. पार्सल</p>
42	Mark the correct option in relation to FOREIGN POST-redirected correspondence:	42	विदेशी पोस्ट-रीडायरेक्टेड पत्राचार के संबंध में सही विकल्प को चिह्नित करें:
	<p>A. Surface mail items received from any country for delivery in India may be redirected to any place within India.</p> <p>B. First class mail surcharge or un-surcharged are eligible for free redirection by air within India.</p> <p>C. Surface mail received for delivery in India from any country not applying reduced charges for India may be redirected to another country by the surface mail without any charge for the redirection.</p> <p>D. All of the above are correct.</p>		<p>A. भारत में वितरण के लिए किसी भी देश से प्राप्त सरफेस मेल आइटम को भारत के भीतर किसी भी स्थान पर रीडायरेक्ट किया जा सकता है।</p> <p>B. प्रथम श्रेणी मेल, अधिभारित या गैर अधिभारित, भारत के भीतर हवाई मार्ग द्वारा मुफ्त रीडायरेक्शन के लिए पात्र हैं।</p> <p>C. किसी भी देश से, जो भारत के लिए कम शुल्क के लिए आवेदन नहीं कर रहे हैं, भारत में डिलीवरी के लिए प्राप्त सरफेस मेल बिना किसी शुल्क के सरफेस मेल द्वारा किसी अन्य देश में रीडायरेक्ट किया जा सकता है।</p> <p>D. उपरोक्त सभी सही हैं।</p>
43	The "Printed Paper" service in the foreign post corresponds to the "....." Service in the inland post with some variations in the conditions.	43	विदेशी डाक में "मुद्रित कागज" सेवा, शर्तों में कुछ बदलाव के साथ, अंतर्देशीय पोस्ट में "....." सेवा से मेल खाती है।
	<p>A. Pattern and sample packet</p> <p>B. Registered News paper</p> <p>C. Book packet service</p> <p>D. None of these</p>		<p>A. पैटर्न और सैंपल पैकेट</p> <p>B. पंजीकृत समाचार पत्र</p> <p>C. बुक पैकेट सेवा</p> <p>D. इनमें से कोई नहीं</p>

44	Articles liable to export duty are detained at the outward office of exchange and the sender is informed regarding the payment of duty -	44	निर्यात शुल्क के लिए उत्तरदायी वस्तुओं को बाहरी विनिमय कार्यालय में रखा जाएगा और प्रेषक को शुल्क के भुगतान के बारे में सूचित किया जाएगा -
	A. By the office of exchange B. By the custom authorities directly C. By the head office of the circle concerned D. All of the above		A. विनिमय कार्यालय द्वारा B. सीधे कस्टम अधिकारियों द्वारा C. संबंधित सर्कल के प्रधान कार्यालय द्वारा D. उपरोक्त सभी
45	Article except VP addressed as "Postal Restante" are detained in the PO of delivery for the period not exceeding	45	वी.पी को छोड़कर अन्य डाक वस्तुएं जो "पोस्टल रेस्टांटे" के रूप में संबोधित हैं, को डिलीवरी पी.ओ में रखा जाता है, जिसकी अवधि से अधिक नहीं होनी चाहिए
	A. Seven days B. Three month C. One month D. Fifteen days		A. सात दिन B. तीन महीने C. एक माह D. पंद्रह दिन
46	When an insured foreign parcel is redirected from one country to the another then	46	जब एक बीमित विदेशी पार्सल को एक देश से दूसरे देश में पुनर्निर्देशित किया जाता है तो
	A.No additional insurance fee is to be levied B. Half of the original insurance fee is to be levied for such transmissions C. A fresh insurance fee become payable for each such transmission D. None of the above		A. कोई अतिरिक्त बीमा शुल्क नहीं लगाया जाना चाहिए B. ऐसे प्रेषण के लिए मूल बीमा शुल्क का आधा हिस्सा लगाया जाना चाहिए C. ऐसे प्रत्येक प्रेषण के लिए एक नया बीमा शुल्क देय होगा D. इनमें से कोई भी नहीं
47	Which of the following is not a DoP Track under IT 2.0 project? (i) Rural hardware Devices (ii) Point of Sale (iii) Field Network and Postal hardware (iv) Accounting and Back Office Management	47	निम्नलिखित में से कौन सा आईटी 2.0 परियोजना के अंतर्गत डीओपी ट्रैक नहीं है? (i) ग्रामीण हार्डवेयर उपकरण (ii) बिक्री केंद्र (iii) फील्ड नेटवर्क और डाक हार्डवेयर (iv) लेखा और बैक ऑफिस प्रबंधन
	A. (i) & (ii) B. (i) only C. (i), (iii) & (iv) D. (i), (ii), (iii) & (iv)		A. (i) और (ii) B. केवल (i) C. (i), (iii) और (iv) D. (i), (ii), (iii) और (iv)



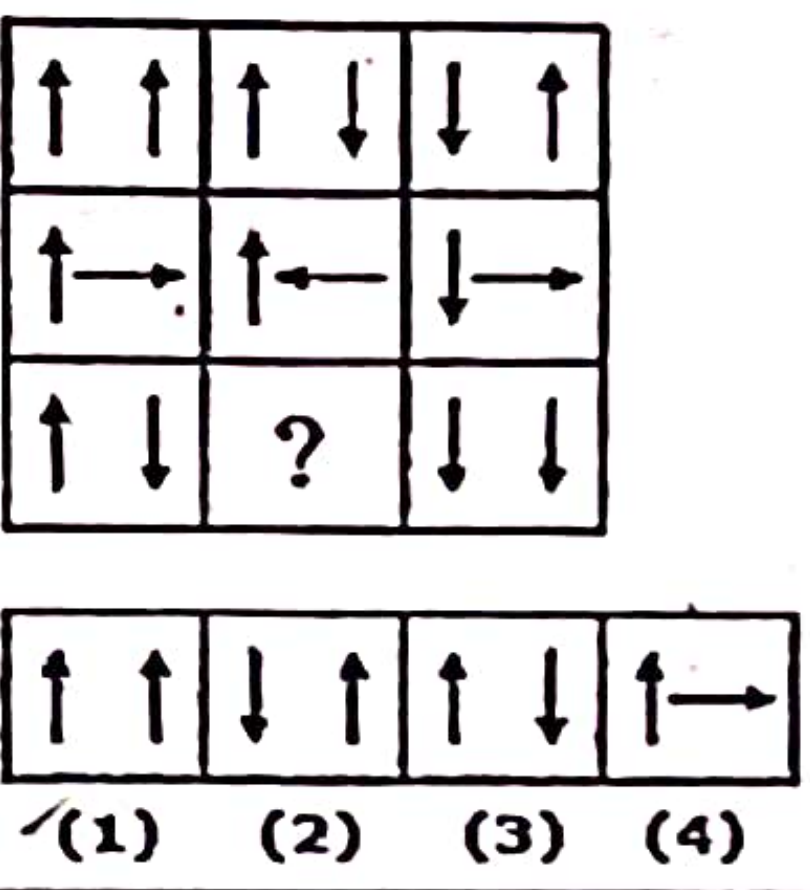
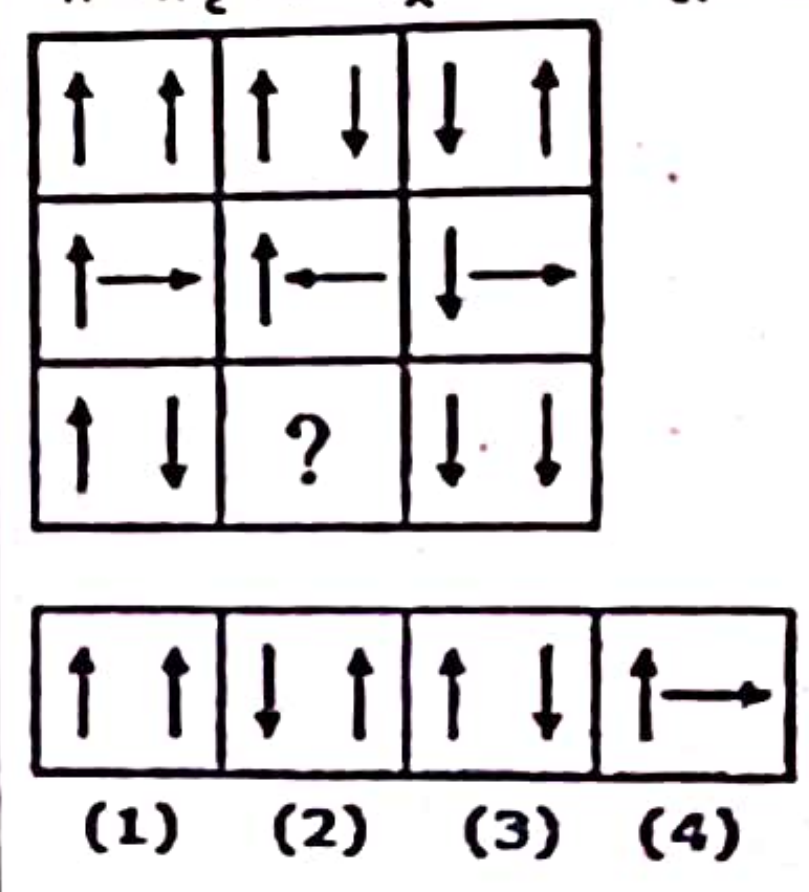
48	What are the 2 pillars on which IT 2.0 project rides?	48	आईटी 2.0 परियोजना किन दो स्तंभों पर आधारित है?
	A. Blockchain Technology and IoT Development B. Data Analytics and Automation C. User Experience and Digital Transformation D. Cyber Security and Data Privacy		A. ब्लॉकचेन तकनीक और IoT विकास B. डेटा विश्लेषण और स्वचालन C. उपयोगकर्ता अनुभव और डिजिटल परिवर्तन D. साइबर सुरक्षा और डेटा गोपनीयता
49	Under IT 2.0 project, expand NOC?	49	आईटी 2.0 परियोजना के अंतर्गत, एनओसी का विस्तार करें?
	A. Network Operation Centre B. Network Optimization Centre C. Network Operations Coordinator D. Network Oversight Committee		A. नेटवर्क संचालन केंद्र B. नेटवर्क अनुकूलन केंद्र C. नेटवर्क संचालन समन्वयक D. नेटवर्क निरीक्षण समिति
50	Under It 2.0 Project, expand UI, AI, MI?	50	IT 2.0 परियोजना के अंतर्गत, UI, AI, MI का विस्तार करें?
	A. User Interface, Accounting Interface, Management Interface B. Unified Interface, Artificial Intelligence, Mobile Interface C. User Interaction, Advanced Integration, Modular Integration D. Universal Interface, Automated Interface, Modular Interface		A. उपयोगकर्ता इंटरफ़ेस, लेखा इंटरफ़ेस, प्रबंधन इंटरफ़ेस B. एकीकृत इंटरफ़ेस, कृत्रिम बुद्धिमत्ता, मोबाइल इंटरफ़ेस C. उपयोगकर्ता सहभागिता, उन्नत एकीकरण, मॉड्यूलर एकीकरण D. सार्वभौमिक इंटरफ़ेस, स्वचालित इंटरफ़ेस, मॉड्यूलर इंटरफ़ेस

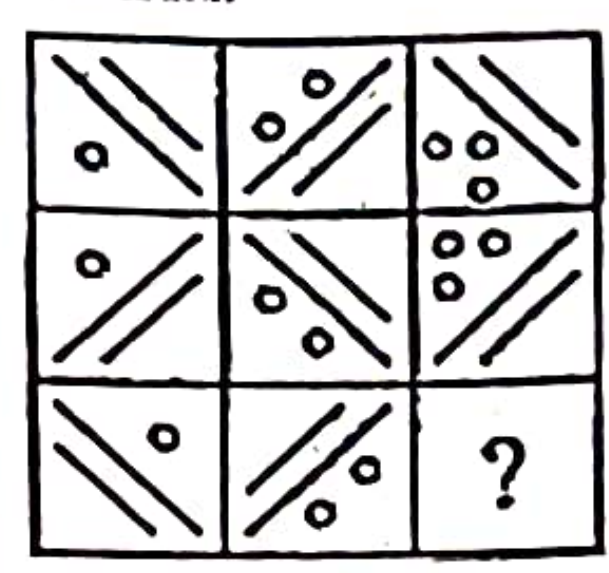
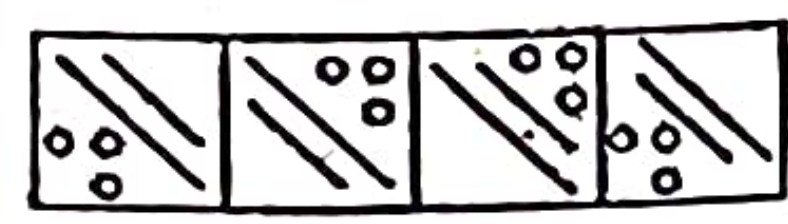

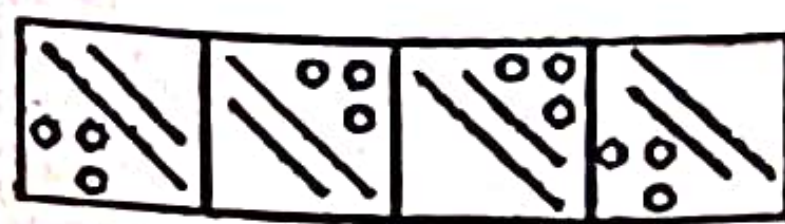



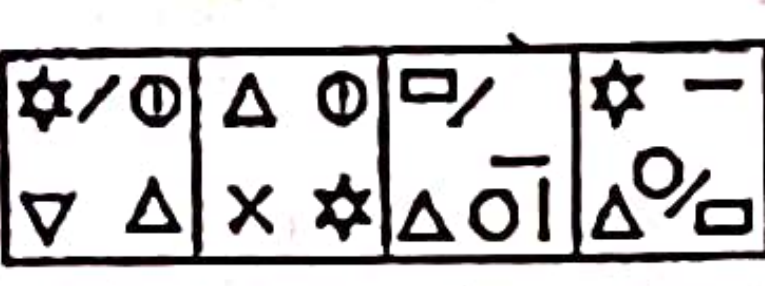



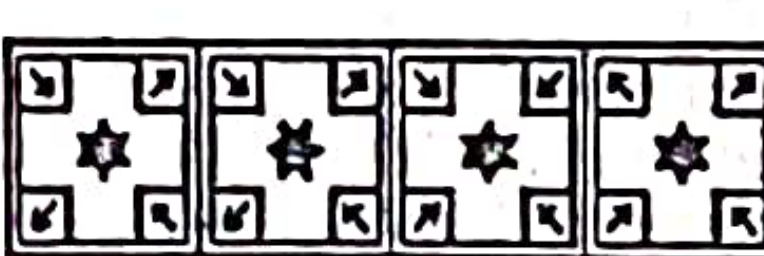



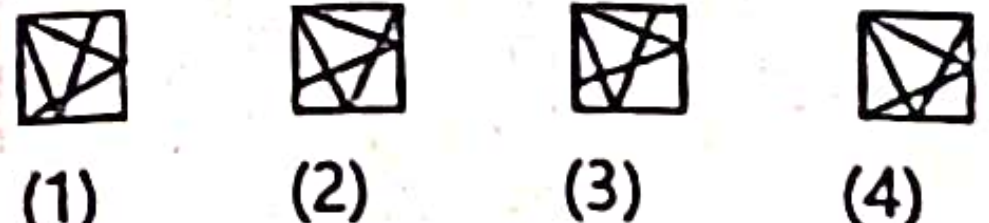
PART- B/ भाग- B

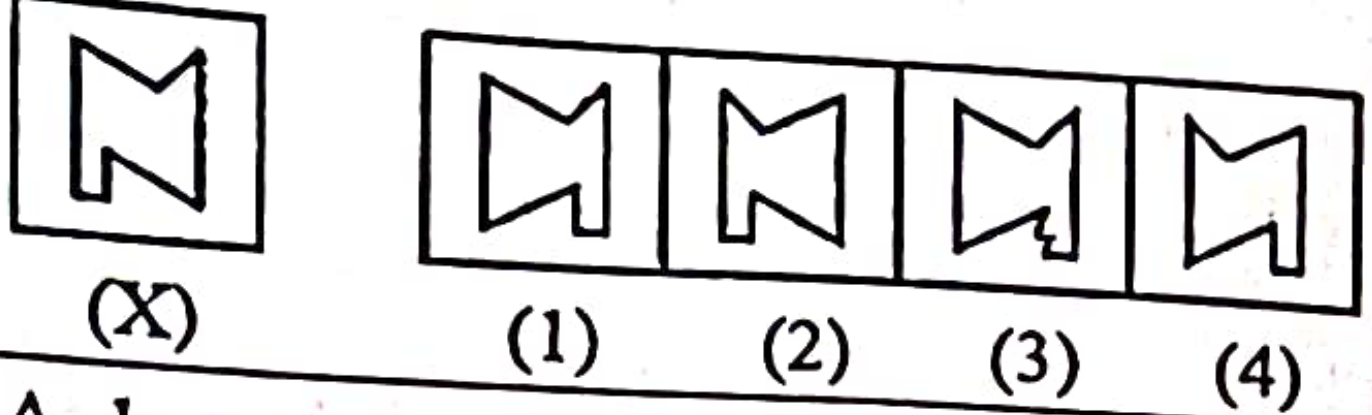
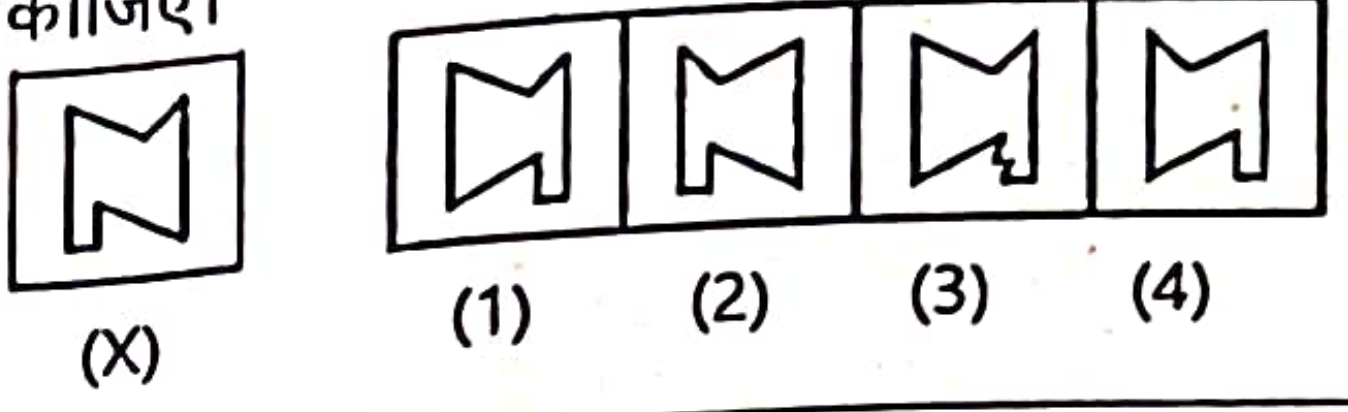
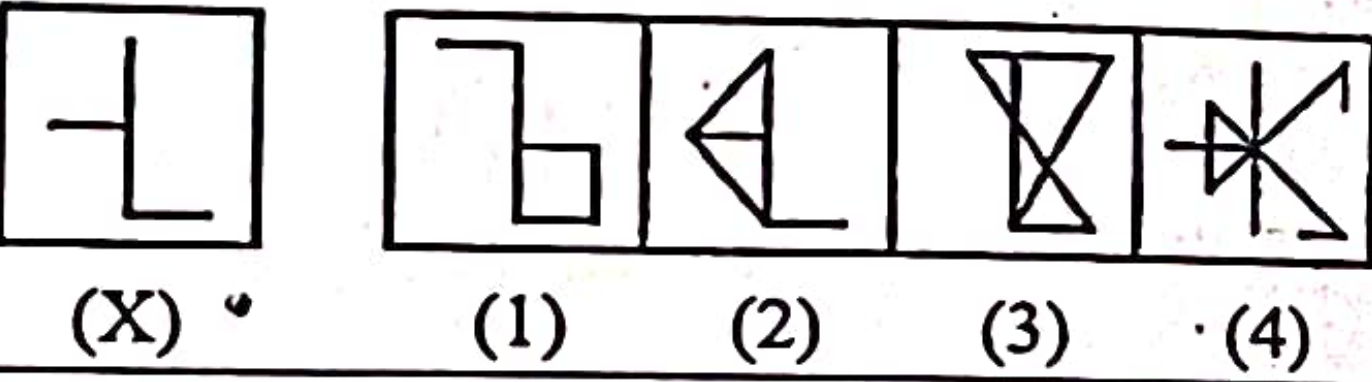
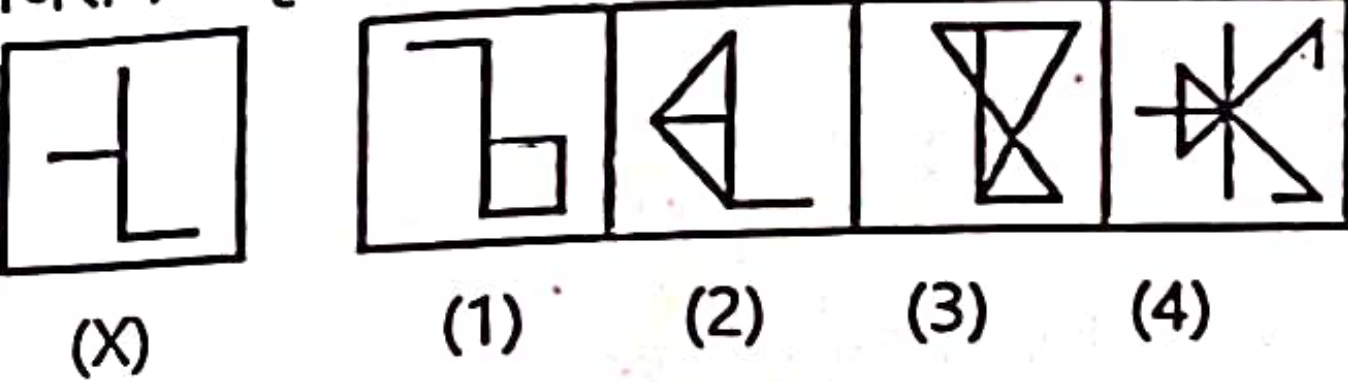
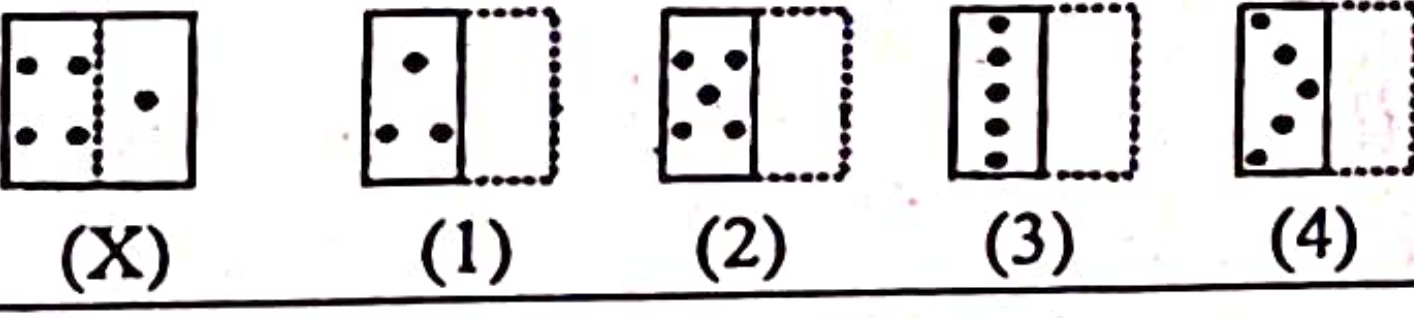
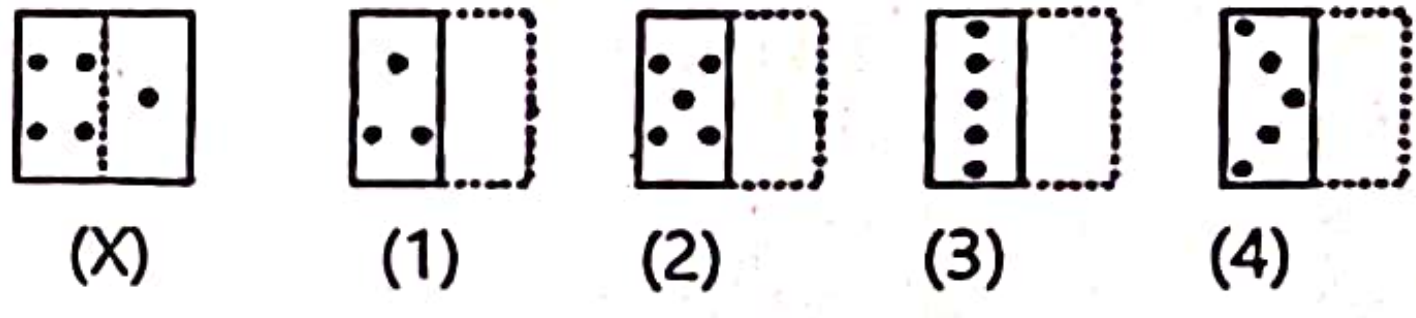
51	A can do a piece of work in 4 hours; B and C together can do it in 3 hours, while A and C together can do it in 2 hours. How long will B alone take to do it?	51	A एक काम को 4 घंटे में कर सकता है; B और C मिलकर इसे 3 घंटे में कर सकते हैं, जबकि A और C मिलकर इसे 2 घंटे में कर सकते हैं। B अकेले इसे पूरा करने में कितना समय लेगा?
	<p>A. 8 hours</p> <p>B. 10 hours</p> <p>C. 12 hours</p> <p>D. 24 hours</p> <p> $A = 4$ $B+C = 3$ $A+C = 2$ $B+C+A+C$ $A+B+C$ $A+C+B$ $A+B = 1$ $B = 1$ $1 \times 12 = 12$ </p>		<p>A. 8 घंटे</p> <p>B. 10 घंटे</p> <p>C. 12 घंटे</p> <p>D. 24 घंटे</p> <p> $A+B+2C = \frac{1}{3} + \frac{1}{2}$ $B+B+2C = \frac{2+3}{6} = \frac{5}{6}$ $A+B+C = \frac{1}{4} + \frac{1}{2} = \frac{3}{4}$ $\frac{5}{6} = \frac{3}{4}$ </p>
52	A person crosses a 600 m long street in 5 minutes. What is his speed in km per hour?	52	एक व्यक्ति 600 मीटर लंबी सड़क 5 मिनट में पार करता है। उसकी गति किलोमीटर प्रति घंटा में क्या है?
	<p>A. 3.6</p> <p>B. 7.2</p> <p>C. 8.4</p> <p>D. 10</p> <p> $S = \frac{D}{T} = \frac{600}{5} \times \frac{60}{1}$ </p>		<p>A. 3.6</p> <p>B. 7.2</p> <p>C. 8.4</p> <p>D. 10</p>
53	A man completes a journey in 10 hours. He travels first half of the journey at the rate of 21 km/hr and second half at the rate of 24 km/hr. Find the total journey in km.	53	एक व्यक्ति 10 घंटे में एक यात्रा पूरी करता है। वह यात्रा का पहला आधा भाग 21 किमी/घंटा की गति से और दूसरा आधा भाग 24 किमी/घंटा की गति से तय करता है। कुल यात्रा किमी में ज्ञात कीजिए।
	<p>A. 220 km</p> <p>B. 224 km</p> <p>C. 230 km</p> <p>D. 234 km</p> <p> $1 = 210$ 210 210 420 2 </p>		<p>A. 220 किमी</p> <p>B. 224 किमी</p> <p>C. 230 किमी</p> <p>D. 234 किमी</p>
54	Cost of 8 dozen bananas is Rs. 180. How many bananas can be purchased for Rs. 30?	54	8 दर्जन केलों की कीमत 180 रुपये है। 30 रुपये में कितने केले खरीदे जा सकते हैं?
	<p>A. 16 bananas</p> <p>B. 24 bananas</p> <p>C. 14 bananas</p> <p>D. 22 bananas</p> <p> $96 - 180$ $7 - 30$ 96×180 30×180 5400 180 </p>		<p>A. 16 केले</p> <p>B. 24 केले</p> <p>C. 14 केले</p> <p>D. 22 केले</p>
55	A machine can copy six pages in 9 seconds. How many pages can it copy in 24 minutes?	55	एक मशीन 9 सेकंड में छह पृष्ठ कॉपी कर सकती है। वह 24 मिनट में कितने पृष्ठ कॉपी कर सकती है?
	<p>A. 144</p> <p>B. 16</p> <p>C. 216</p> <p>D. 960</p> <p> $6 - 9$ $1 - 24 \times 60$ $6 \times 24 \times 60$ 16 96 </p>		<p>A. 144</p> <p>B. 16</p> <p>C. 216</p> <p>D. 960</p>

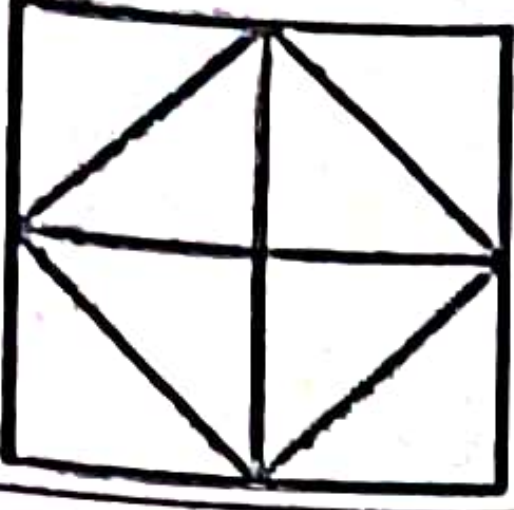
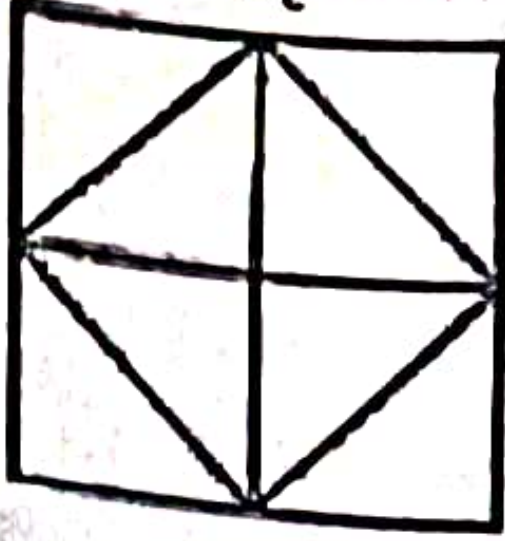
56	Running at the same constant rate, 6 identical machines can produce a total of 270 bottles per minute. At this rate, how many bottles could 10 such machines produce in 4 minutes?	56	एक ही स्थिर दर पर चलने पर, 6 समान मशीनें प्रति मिनट कुल 270 बोतलें बना सकती हैं। इस दर पर, ऐसी 10 मशीनें 4 मिनट में कितनी बोतलें बना सकती हैं?
	<p>A. 648</p> <p>B. 1800</p> <p>C. 2000</p> <p>D. 2320</p>		<p>A. 648</p> <p>B. 1800</p> <p>C. 2000</p> <p>D. 2320</p>
57	Which of the following options is related to the third term in the given series in the same way as the second term is related to the first? Angioplasty : Heart :: Dialysis : ?	57	निम्नलिखित में से कौन सा विकल्प दी गई श्रृंखला में तीसरे शब्द से उसी प्रकार संबंधित है जैसे दूसरा शब्द पहले से है? एंजियोप्लास्टी : हृदय :: डायलिसिस : ?
	<p>A. Kidney</p> <p>B. Lung</p> <p>C. Brain</p> <p>D. Rib-cage</p>		<p>A. किडनी</p> <p>B. फेफड़े</p> <p>C. मस्तिष्क</p> <p>D. रिब-केज</p>
58	Which of the following options is related to the third term in the given series in the same way as the second term is related to the first? France : Euro :: America : ?	58	निम्नलिखित में से कौन सा विकल्प दी गई श्रृंखला में तीसरे शब्द से उसी प्रकार संबंधित है जैसे दूसरा शब्द पहले से है? फ्रांस : यूरो :: अमेरिका : ?
	<p>A. Ringgit</p> <p>B. Yen</p> <p>C. Kyat</p> <p>D. Dollar</p>		<p>A. रिंगिट</p> <p>B. येन</p> <p>C. क्यात</p> <p>D. डॉलर</p>
59	Pick the odd one out.	59	असंगत विकल्प को छांटें।
	<p>A. Ladakh</p> <p>B. Itanagar</p> <p>C. Dehradun</p> <p>D. Gangtok</p>		<p>A. लद्दाख</p> <p>B. ईटानगर</p> <p>C. देहरादून</p> <p>D. गंगटोक</p>
60	In the following question, various terms of a letter series are given with one term missing as shown by (?). Choose the missing term out of the given alternative. NZK, MBH, LDE, KFB, ?	60	निम्नलिखित प्रश्न में, एक अक्षर श्रृंखला के विभिन्न पद दिए गए हैं, जिनमें से एक पद लुप्त है, जैसा कि (?) द्वारा दर्शाया गया है। दिए गए विकल्पों में से लुप्त पद का चयन कीजिए। NZK, MBH, LDE, KFB, ?
	<p>A. JHZ</p> <p>B. JHY</p> <p>C. HIY</p> <p>D. JHX</p>		<p>A. JHZ</p> <p>B. JHY</p> <p>C. HIY</p> <p>D. JHX</p>

61	In a certain code language, SUIT is written as SITU, and CUTE is written as CTEU. How will WASH be written in the same language?	61	एक निश्चित कूट भाषा में, SUIT को SITU लिखा जाता है, और CUTE को CTEU लिखा जाता है। उसी भाषा में WASH को किस प्रकार लिखा जाएगा?
	A. WHAS B. WSHA C. WSAH D. HAWS		A. WHAS B. WSHA C. WSAH D. HAWS
62	If in a certain language CHHAPAK is coded as DJKEUGR, how is MALANGA coded in that code?	62	किसी निश्चित कूट भाषा में, CHHAPAK को DJKEUGR लिखा जाता है। इसी भाषा में MALANGA को किस प्रकार लिखा जाएगा?
	A. NCEOSMC B. NCOCSMC C. NCOESMH D. NCOCMSC		A. NCEOSMC B. NCOCSMC C. NCOESMH D. NCOCMSC
63	Introducing Raveena, Nitish said, "She is the maternal grandmother of my sister's son." How is Raveena related to Nitish?	63	रवीना का परिचय देते हुए नितीश ने कहा, "वह मेरी बहन के बेटे की नानी है"। रवीना, नितीश से किस प्रकार संबंधित है?
	A. Aunt B. Sister-in-law C. Mother D. Mother-in-law		A. मौसी B. भाभी C. माँ D. सास
64	Rehana drives 6 km west from her home and turns left and drives 3 km and again turns left and drives 10 km to reach her office. What is the shortest distance between her home and office?	64	रेहाना अपने घर से 6 किमी पश्चिम में ड्राइव करती है और बाएं मुड़ती है और 3 किमी ड्राइव करती है और फिर से बाएं मुड़ती है और 10 किमी ड्राइव कर अपने कार्यालय पहुँचती है। उसके घर और कार्यालय के बीच सबसे छोटी दूरी क्या है?
	A. 10 km B. 5 km C. 4 km D. 9 km		A. 10 किमी B. 5 किमी C. 4 किमी D. 9 किमी
65	How many even numbers are there in the following series of numbers, each of which is preceded by an odd number, but not followed by an even number? 5 3 4 8 9 7 1 6 5 3 2 9 8 7 3 5	65	निम्नलिखित संख्या श्रृंखला में कितनी सम संख्याएँ हैं, जिनमें से प्रत्येक के पहले एक विषम संख्या है, लेकिन उसके बाद एक सम संख्या नहीं है? 5 3 4 8 9 7 1 6 5 3 2 9 8 7 3 5
	A. 0 B. 1 C. 2 D. 3		A. 0 B. 1 C. 2 D. 3

66	While going on a scooter, you find someone has been hurt by your vehicle, you would - A. Try to run away from the spot immediately B. Stop your vehicle and say 'I am sorry' C. Take him to doctor and arrange for his medical aid D. Pay compensation for the injury and in this way try to dispose off the matter	66	स्कूटर पर जाते समय, अगर आपको पता चले कि आपके वाहन से किसी को चोट लगी है, तो आप - A. तुरंत वहाँ से भागने की कोशिश करेंगे B. अपना वाहन रोकेंगे और कहेंगे, 'मुझे माफ़ करना' C. उसे डॉक्टर के पास ले जाएँगे और उसकी चिकित्सा सहायता का इंतज़ाम करेंगे D. चोट के लिए मुआवज़ा देंगे और इस तरह मामले को निपटाने की कोशिश करेंगे
67	Select a suitable figure from the four alternatives that would complete the figure matrix. 	67	चार विकल्पों में से एक उपयुक्त आकृति का चयन करें जो आकृति मैट्रिक्स को पूरा करेगी। 
	A. 1 B. 2 C. 3 D. 4		A. 1 B. 2 C. 3 D. 4
68	Select a suitable figure from the four alternatives that would complete the figure matrix. 	68	चार विकल्पों में से एक उपयुक्त आकृति का चयन करें जो आकृति मैट्रिक्स को पूरा करेगी। 
	A. 1 B. 2 C. 3 D. 4		A. 1 B. 2 C. 3 D. 4

<p>69 Select a suitable figure from the four alternatives that would complete the figure matrix.</p>   <p>(1) (2) (3) (4)</p>	<p>69 चार विकल्पों में से एक उपयुक्त आकृति का चयन करें जो आकृति मैट्रिक्स को पूरा करेगी।</p>   <p>(1) (2) (3) (4)</p>
<p>A. 1 B. 2 C. 3 D. 4</p>	<p>A. 1 B. 2 C. 3 D. 4</p>
<p>70 Select the alternative in which the specified components of the key figure (X) are found.</p>   <p>(1) (2) (3) (4)</p>	<p>70 उस विकल्प का चयन करें जिसमें आकृति (X) के निर्दिष्ट घटक पाए जाते हैं।</p>   <p>(1) (2) (3) (4)</p>
<p>A. 1 B. 2 C. 3 D. 4</p>	<p>A. 1 B. 2 C. 3 D. 4</p>
<p>71 Find out how will the key figure (X) look like after rotation.</p>   <p>(1) (2) (3) (4)</p>	<p>71 शात कीजिए कि घुमाव के बाद मुख्य आकृति (X) कैसी दिखेगी।</p>   <p>(1) (2) (3) (4)</p>
<p>A. 1 B. 2 C. 3 D. 4</p>	<p>A. 1 B. 2 C. 3 D. 4</p>
<p>72 In the following question, which answer figure will complete the pattern in the figure (X)?</p>   <p>(1) (2) (3) (4)</p>	<p>72 निम्नलिखित प्रश्न में, कौन सी उत्तर आकृति, आकृति (X) के स्वरूप को पूरा करेगी?</p>   <p>(1) (2) (3) (4)</p>

	A. 1 B. 2 C. 3 D. 4		A. 1 B. 2 C. 3 D. 4
73	<p>In the following question, choose the correct mirror image of the given Fig.(X) from amongst the four alternatives (1), (2), (3) and (4).</p>  <p>(X) (1) (2) (3) (4)</p>	73	<p>निम्नलिखित प्रश्न में, चार विकल्पों (1), (2), (3) और (4) में से दी गई आकृति (X) की सही दर्पण छवि का चयन कीजिए।</p>  <p>(X) (1) (2) (3) (4)</p>
	A. 1 B. 2 C. 3 D. 4		A. 1 B. 2 C. 3 D. 4
74	<p>In the following question, you are given a figure (X) followed by four alternative figures (1), (2), (3) and (4) such that figure (X) is embedded in one of them. Trace out the alternative figure which contains fig. (X) as its part.</p>  <p>(X) (1) (2) (3) (4)</p>	74	<p>निम्नलिखित प्रश्न में, आपको एक आकृति (X) के बाद चार विकल्प आकृतियाँ (1), (2), (3) और (4) इस प्रकार दी गई हैं कि आकृति (X) उनमें से किसी एक में अंतर्निहित है। उस विकल्प आकृति का पता लगाइए जिसमें आकृति (X) उसके भाग के रूप में है।</p>  <p>(X) (1) (2) (3) (4)</p>
	A. 1 B. 2 C. 3 D. 4		A. 1 B. 2 C. 3 D. 4
75	<p>In the following problem, a square transparent sheet (X) with a pattern is given. Figure out from amongst the four alternatives as to how the pattern would appear when the transparent sheet is folded at the dotted line.</p>  <p>(X) (1) (2) (3) (4)</p>	75	<p>निम्नलिखित समस्या में, एक वर्गाकार पारदर्शी शीट (X) दी गई है जिस पर एक पैटर्न है। चार विकल्पों में से बताइए कि जब पारदर्शी शीट को बिंदुदार रेखा पर मोड़ा जाएगा तो पैटर्न कैसा दिखाई देगा।</p>  <p>(X) (1) (2) (3) (4)</p>
	A. 1 B. 2 C. 3 D. 4		A. 1 B. 2 C. 3 D. 4

76	Find the number of triangles in the given figure. 	76	दी गई आकृति में त्रिभुजों की संख्या ज्ञात कीजिए। 
	A. 8 B. 10 C. 12 D. 14		A. 8 B. 10 C. 12 D. 14
77	Between which two mountain ranges is the Valley of Kashmir situated?	77	कश्मीर घाटी किन दो पर्वत श्रृंखलाओं के बीच स्थित है?
	A. Ladakh & Zaskar B. Great Himalayas & Pir Panjal C. Great Himalayas & Zaskar D. Karakoram & Ladakh		A. लद्दाख और ज़ांस्कर B. महान हिमालय और पीर पंजाल C. महान हिमालय और ज़ांस्कर D. काराकोरम और लद्दाख
78	Majuli, the largest river island in the world, is located in:	78	दुनिया का सबसे बड़ा नदी द्वीप, माजुली, कहाँ स्थित है?
	A. Bihar B. Assam C. Uttar Pradesh D. West Bengal		A. बिहार B. असम C. उत्तर प्रदेश D. पश्चिम बंगाल
79	Which article of the Constitution empowers the President to impose President's Rule in a state?	79	संविधान का कौन सा अनुच्छेद राष्ट्रपति को किसी राज्य में राष्ट्रपति शासन लगाने का अधिकार देता है?
	A. Article 352 B. Article 356 C. Article 360 D. Article 365		A. अनुच्छेद 352 B. अनुच्छेद 356 C. अनुच्छेद 360 D. अनुच्छेद 365
80	Which Constitutional body is responsible for revenue distribution between Centre and States?	80	केंद्र और राज्यों के बीच राजस्व वितरण के लिए कौन सा संवैधानिक निकाय उत्तरदायी है?
	A. NITI Aayog B. Election Commission C. Finance Commission D. Planning Commission		A. नीति आयोग B. चुनाव आयोग C. वित्त आयोग D. योजना आयोग

81	Which gas is used for the artificial ripening of fruits?	81	फलों को कृत्रिम रूप से पकाने के लिए किस गैस का उपयोग किया जाता है?
	A. Oxygen B. Carbon monoxide C. Ethylene D. Nitrogen		A. ऑक्सीजन B. कार्बन मोनोऑक्साइड C. एथिलीन D. नाइट्रोजन
82	In which year was the Sukanya Samriddhi Yojana launched?	82	सुकन्या समृद्धि योजना किस वर्ष शुरू की गई थी?
	A. 2012 B. 2015 C. 2017 D. 2020		A. 2012 B. 2015 C. 2017 D. 2020
83	The 'Natyashastra', an ancient treatise on performing arts, was written by:	83	प्रदर्शन कलाओं पर एक प्राचीन ग्रंथ, 'नाट्यशास्त्र' किसके द्वारा लिखा गया था?
	A. Bharata Muni B. Patanjali C. Panini D. Tulsidas		A. भरत मुनि B. पतंजलि C. पाणिनि D. तुलसीदास
84	Which of the following revolutionary leader was associated with the Hindustan Socialist Republican Association (HSRA)?	84	निम्नलिखित में से कौन सा क्रांतिकारी नेता, हिंदुस्तान सोशलिस्ट रिपब्लिकन एसोसिएशन (HSRA) से जुड़ा था?
	A. Lala Lajpat Rai B. Sardar Patel C. Bhagat Singh D. Rajendra Prasad		A. लाला लाजपत राय B. सरदार पटेल C. भगत सिंह D. राजेंद्र प्रसाद
85	A customer is elderly and struggling to understand a form. You're busy with other work. What should you do?	85	एक ग्राहक बुजुर्ग है और उसे फॉर्म समझने में दिक्कत हो रही है। आप किसी और काम में व्यस्त हैं। आपको क्या करना चाहिए?
	A. Briefly explain the form, then direct them to another staff member to save time B. Apologize, provide them with written instructions and ask them to return later C. Pause your work temporarily and assist the customer with patience and clarity D. Prioritize your work and ask a junior colleague to help, even if they're inexperienced		A. फॉर्म को संक्षेप में समझाएँ, फिर समय बचाने के लिए उन्हें किसी दूसरे कर्मचारी के पास भेज दें। B. माफ़ी माँगें, उन्हें लिखित निर्देश दें और बाद में आने के लिए कहें। C. अपना काम कुछ समय के लिए रोक दें और धैर्य और स्पष्टता से ग्राहक की मदद करें। D. अपने काम को प्राथमिकता दें और किसी कनिष्ठ सहकर्मी से मदद करने को कहें, भले ही वे अनुभवहीन हों।

86	A friend asks for confidential account details of a customer. You should:	86	एक दोस्त किसी ग्राहक के गोपनीय खाते की जानकारी मांगता है। आपको करना चाहिए:
	A. Share it if your friend promises secrecy B. Share only non-sensitive information C. Delay giving it until your shift ends D. Refuse and explain it's against policy		A. अगर आपका दोस्त गोपनीयता का वादा करता है, तो उसे साझा करें। B. केवल गैर-संवेदनशील जानकारी ही साझा करें। C. अपनी शिफ्ट खत्म होने तक जानकारी देने में देरी करें। D. मना कर दें और समझाएँ कि यह नीति के विरुद्ध है।
87	Evaluate: $12[6 - \{4 - 2((3 - 2) + 1)\}]$	87	मूल्यांकन करें: $12[6 - (4 - 2((3 - 2) + 1))]$
	A. 72 B. 60 C. 48 D. 36 $12(6 - (4 - 2(1 + 1)))$ $12(6 - (4 - 2(2)))$ $12(6 - (4 - 2))$ $12(6 - 2)$ $12(4)$ 48		A. 72 B. 60 C. 48 D. 36
88	Evaluate: $\frac{1}{2}[4 + \{3 - 2((\frac{3}{4} + \frac{1}{4}) \times 2)\}]$	88	मूल्यांकन करें: $\frac{1}{2}[4 + \{3 - 2((\frac{3}{4} + \frac{1}{4}) \times 2)\}]$
	A. 2 B. 1.5 C. 1 D. 2.5 $\frac{1}{2}[4 + (3 - 2(1 \times 2))]$ $\frac{1}{2}[4 + (3 - 2(2))]$ $\frac{1}{2}[4 + (3 - 2)]$ $\frac{1}{2}[4 + 1]$ $\frac{1}{2}(5)$ 2.5		A. 2 B. 1.5 C. 1 D. 2.5
89	1.14 expressed as a percent of 1.9 is:	89	1.9 के प्रतिशत के रूप में व्यक्त 1.14 है:
	A. 6% B. 10% C. 60% D. 90% 1.14×1.9 114×19 1482 $1482 \div 100 = 14.82$ $14.82 \div 1.9 = 7.8$ $7.8 \div 100 = 7.8\%$		A. 6% B. 10% C. 60% D. 90%
90	In an examination 80% candidates passed in English and 85% candidates passed in Mathematics. If 73% candidates passed in both these subjects, then what percent of candidates failed in both the subjects?	90	एक परीक्षा में 80% अभ्यर्थी अंग्रेजी में और 85% अभ्यर्थी गणित में उत्तीर्ण हुए। यदि इन दोनों विषयों में 73% अभ्यर्थी उत्तीर्ण हुए, तो कितने प्रतिशत अभ्यर्थी दोनों विषयों में अनुत्तीर्ण हुए?
	A. 8% B. 15% C. 27% D. 35%		A. 8% B. 15% C. 27% D. 35%
91	If A's salary is 25% more than B's salary, then B's salary is how much lower than A's salary?	91	यदि A का वेतन B के वेतन से 25% अधिक है, तो B का वेतन A के वेतन से कितना कम है?
	A. 33% B. 25% C. 20% D. 16%		A. 33% B. 25% C. 20% D. 16%

92	By selling a bicycle for Rs. 2850, a shopkeeper gains 14%. If the profit is reduced to 8%, then the selling price will be:	92	एक दुकानदार को एक साइकिल 2850 रुपये में बेचने पर 14% का लाभ होता है। यदि लाभ 8% कम हो जाए, तो विक्रय मूल्य होगा:
	A. Rs. 2600 B. Rs. 2700 C. Rs. 2800 D. Rs. 3000 $\begin{array}{r} 114 - 2850 \\ 92 - ? \\ \hline 46 \times 2850 \\ \hline 1317 \end{array}$		A. 2600 रुपये B. 2700 रुपये C. 2800 रुपये D. 3000 रुपये
93	Kapil sells a mobile to Sachin at a gain of 15% and Sachin again sells it to Rohit at a profit of 12%. If Rohit pays Rs. 322, what is the cost price of the mobile for Kapil?	93	कपिल, सचिन को एक मोबाइल 15% लाभ पर बेचता है और सचिन उसे फिर से रोहित को 12% लाभ पर बेचता है। यदि रोहित 322 रुपये देता है, तो कपिल के लिए मोबाइल का क्रय मूल्य क्या है?
	A. Rs. 350 B. Rs. 450 C. Rs. 250 D. Rs. 325		A. 350 रुपये B. 450 रुपये C. 250 रुपये D. 325 रुपये
94	A watch costing Rs. 120 was sold at a loss of 15%. At what price was it sold?	94	₹120 की एक घड़ी 15% की हानि पर बेची गई। यह किस कीमत पर बेची गई?
	A. Rs. 112 B. Rs. 102 C. Rs. 135 D. Rs. 110 $\begin{array}{r} 85\% - 120 \\ 100 - ? \\ \hline 100 \times 120 \\ \hline 85 \end{array}$		A. ₹112 B. ₹102 C. ₹135 D. ₹110
95	A principal amount of Rs. 1200 grows to Rs. 1440 in 2 years. Calculate the rate of interest.	95	1200 रुपये की मूल राशि 2 वर्षों में बढ़कर 1440 रुपये हो जाती है। ब्याज दर की गणना कीजिए।
	A. 10% B. 12% C. 15% D. 8% $\begin{array}{l} 1440 = \frac{100 \times 1200 \times R}{100} \\ R = \frac{1440 \times 100}{1200 \times 2} = 6\% \end{array}$		A. 10% B. 12% C. 15% D. 8% $\begin{array}{l} 240 = \frac{1200 \times 2 \times R}{100} \\ R = \frac{240 \times 100}{1200 \times 2} = 10\% \end{array}$
96	What is the difference between the simple interest on a principal of Rs. 500 being calculated at 5% per annum for 3 years and 4% per annum for 4 years?	96	500 रुपये के मूलधन पर 3 वर्षों के लिए 5% प्रति वर्ष और 4 वर्षों के लिए 4% प्रति वर्ष की दर से गणना किए जाने वाले साधारण ब्याज के बीच क्या अंतर है?
	A. Rs. 5 B. Rs. 10 C. Rs. 20 D. Rs. 40 $\begin{array}{l} \frac{500 \times 5 \times 3}{100} = 75 \\ \frac{500 \times 4 \times 4}{100} = 80 \end{array}$		A. 5 रुपये B. 10 रुपये C. 20 रुपये D. 40 रुपये
97	A sum becomes 4 times at simple interest in 10 years. What is the rate of interest?	97	एक राशि साधारण ब्याज पर 10 वर्षों में 4 गुना हो जाती है। ब्याज दर क्या है?
	A. 10% B. 20% C. 30% D. 40% $P = \frac{400 \times 10}{100}$		A. 10% B. 20% C. 30% D. 40%

98	In the first 10 overs of a cricket game, the run rate was only 3.2. What should be the run rate in the remaining 40 overs to reach the target of 282 runs?	98	एक क्रिकेट मैच के पहले 10 ओवरों में रन रेट केवल 3.2 था। 282 रनों के लक्ष्य तक पहुँचने के लिए शेष 40 ओवरों में रन रेट क्या होना चाहिए?
	A. 6.25 B. 6.5 C. 6.75 D. 7		A. 6.25 B. 6.5 C. 6.75 D. 7
99	A grocer has a sale of Rs. 6435, Rs. 6927, Rs. 6855, Rs. 7230 and Rs. 6562 for 5 consecutive months. How much sale must he have in the sixth month so that he gets an average sale of Rs. 6500?	99	एक पंसारी की लगातार 5 महीनों में बिक्री क्रमशः 6435 रुपये, 6927 रुपये, 6855 रुपये, 7230 रुपये और 6562 रुपये रही। छठे महीने में उसकी कितनी बिक्री होनी चाहिए ताकि उसकी औसत बिक्री 6500 रुपये हो?
	A. Rs. 4991 B. Rs. 5991 C. Rs. 6001 D. Rs. 6991		A. 4991 रुपये B. 5991 रुपये C. 6001 रुपये D. 6991 रुपये
100	A can do a work in 15 days and B in 20 days. If they work on it together for 4 days, then the fraction of the work that is left is:	100	A एक काम को 15 दिनों में और B 20 दिनों में कर सकता है। यदि वे दोनों मिलकर 4 दिन काम करते हैं, तो काम का शेष भाग कितना होगा:
	A. 1/4 B. 1/10 C. 7/15 D. 8/15		A. 1/4 B. 1/10 C. 7/15 D. 8/15
